



T | PRVW00 | 0

ZALIJEPITI NALJEPNICU UČENIKA



GEOGRAFIJA

EKSTERNA PROVJERA ZNANJA UČENIKA NA KRAJU III CIKLUSA OSNOVNE ŠKOLE

APRIL, ŠKOLSKA 2025/2026. GODINA

UPUTSTVO

VRIJEME RJEŠAVANJA TESTA: 70 MINUTA

Dozvoljen pribor: grafitna olovka, gumica i hemijska olovka.

Pažljivo pročitajte svako pitanje.

Ako odgovor dajete na više načina,
nedvosmisleno označite koje rješenje treba da budu ocjenjivač.

**Rješenje zadatka/pitanja OBAVEZNO pisati na mjestu predviđenom
za taj zadatak/pitanje.**

**ZA VRIJEME RADA NA TESTU NIJE DOZVOLJENA UPOTREBA
ELEKTRONSKIH UREĐAJA I KOREKTORA.**

Pitanje će se vrednovati sa **0 bodova** ako je:

- ▶ netačno
- ▶ rješenje napisano na mjestu koje nije predviđeno za taj zadatak/pitanje
- ▶ zaokruženo više ponuđenih odgovora
- ▶ nečitko i nejasno napisano.

Ukoliko pogriješite, prekrižite i rješavajte ponovo.

ŽELIMO TI MNOGO USPJEHA!



T | PRVW00 | 1



P | YWKH8 | 1

1

Nabroj četiri spoljašnje sile koje mijenjaju reljef.

1. _____
2. _____
3. _____
4. _____

4

2



P | SJQKM | 1

Upiši značenje navedenih pojmova:

Pojmovi:

Značenje

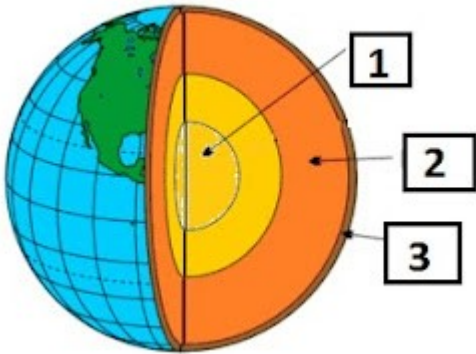
1. Geografski nazivi ili _____
2. Mrtvaja ili _____
3. Meridijan ili _____
4. Kosmos ili _____
5. Asteroid ili _____

5



3

Upiši pojmove prikazane na slici:



1. _____
2. _____
3. _____

3

4



Pažljivo pročitajte navedene tvrdnje i odredite da li su tačne (T) ili nijesu (N). Zaokruži (T) ako misliš da je tvrdnja tačna, odnosno (N) ako misliš da je tvrdnja netačana.

- | | | |
|--|---|---|
| A. Akumulacija je taloženje razorenog materijala | T | N |
| B. Ada je erozivni oblik raljefa | T | N |
| C. Škrapa je površinski kraški oblik reljefa | T | N |
| D. Klifovi nastaju radom vjetra | T | N |

4



5

U sljedećem zadatku svakom pojmu u lijevoj koloni možete pridružiti samo jedan pojam iz desne kolone. Na linijama treba uz broj koji označava pojam u lijevoj koloni upisati slovo tačnog odgovora iz desne kolone. Pazite, jedan odgovor na desnoj strani je višak.

Poveži spoljašnju silu i oblik raljeja koji nastaje njenim djelovanjem;

- | | |
|-----------------------|-----------|
| 1. abrazija | A. dina |
| 2. eolska erozija | B. kanjon |
| 3. fluvijalna erozija | C. klif |
| 4. kraška erozija | D. morena |
| | E. škrapa |

1 _____

2 _____

3 _____

4 _____

4



6

Dopuni rečenice:

A) Plima je _____.

B) Osjeka je _____.

C) Plima i osjeka se jednim imenom nazivaju _____.

D) Plimu i osjeku izaziva _____.

4



7

Pogledaj sliku i odgovori na pitanja



Instrument koji je prikazan na slici zove se _____.

služi za mjerenje _____.

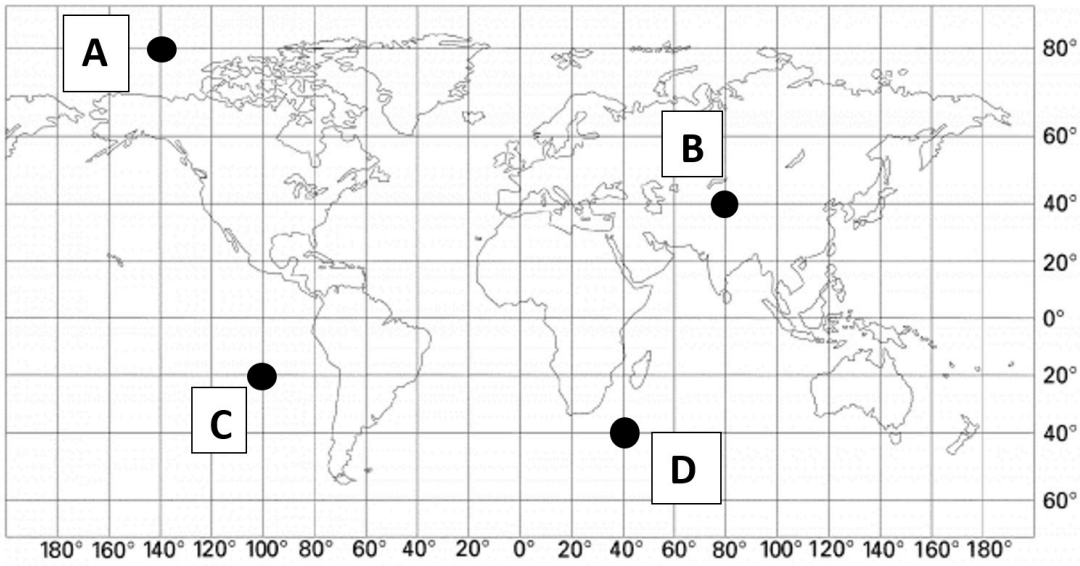
Jedinica kojom se iskazuje izmjerena vrijednost je _____.

3



8

Odredi geografsku širinu i dužinu tačaka prikazanih na karti.



Tačka A _____

Tačka B _____

Tačka C _____

Tačka D _____

4



T | PRV00 | 7



P | QAB6K | 7

9

Dopuni rečenice:

- a. Zemljino okretanje oko Sunca zove se _____;
- b. Smjena obdanice i noći je posledica Zemljine _____;
- c. Na sjevernoj Zemljinoj polulopti dugodnevica je _____;
- d. Na sjevernoj Zemljinoj polulopti kratkodnevica je _____.

4



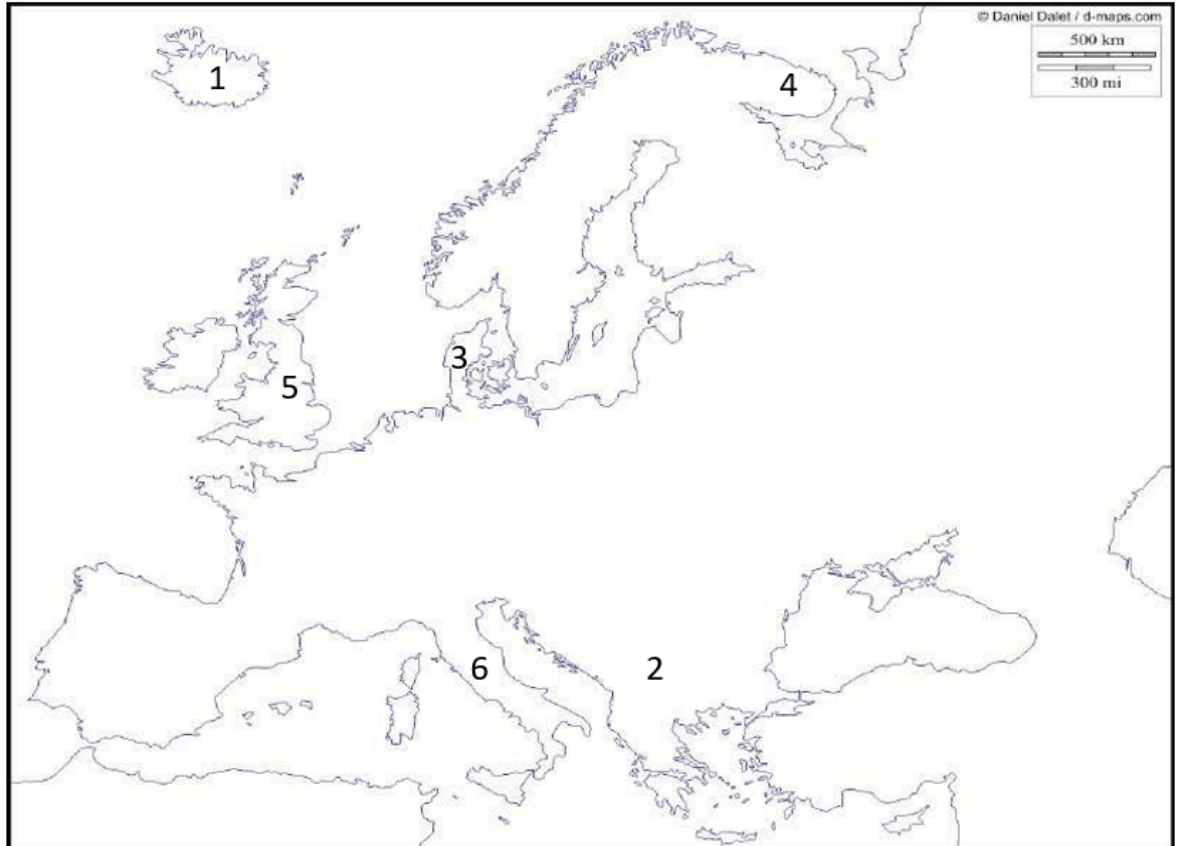
T | PRVW00 | 8



P | BAW88 | 8

10

Posmatrajući kartu Evrope na linijama pored brojeva upiši nazive ostrva i poluostrva



1. _____
2. _____
3. _____
4. _____
5. _____
6. _____

6



T | PRV00 | 9

11



P | EAYP2 | 9

Razvrstaj navedene evropske narode u grupu kojoj pripadaju (pazite, dva odgovora su višak).

Finci, Italijani, Rumuni, Crnogorci, Holanđani, Mađari, Poljaci, Norvežani

Slovenska grupa - _____, _____

Germska grupa- _____, _____

Romanska grupa- _____, _____

6

12



P | XE27K | 9

Na linijama upiši geografska imena objekata čija su objašnjenja data sa desne strane.

_____ Rijeka sa najvećom količinom vode.

_____ Najveći arhipelag na svijetu.

_____ Najdublja kopnena depresija na svijetu.

_____ Najveći planinski vrh na svijetu.

_____ Najviši vodopad na svijetu

5



T | PRVW00 | 10



P | 8825L | 10

13

Objasni sledeće pojmove:

a. Mulati _____

b. Zambosi _____

c. Melezi _____

3




14

Na nijemoj karti Sjeverne Amerike brojevima su označene rijeke. Na linijama upiši nazive označenih rijeka.



- 1. _____
- 2. _____
- 3. _____
- 4. _____
- 5. _____
- 6. _____

6





T | PRVW00 | 12

15



P | RN6ZV | 12

U sljedećem zadatku svakom pojmu u lijevoj koloni možete pridružiti samo jedan pojam iz desne kolone. Na linijama treba uz broj koji označava pojam u lijevoj koloni upisati slovo tačnog odgovora iz desne kolone. Pazite, jedan odgovor na desnoj strani je višak.

Poveži regiju Azije sa karakteristikom koja joj pripada.

- | | |
|----------------------|--|
| 1. Jugozapadna Azija | a. Najveća i najrazvijenija regija |
| 2. Srednja Azija | b. Bogatstvo naftom i gasom |
| 3. Južna Azija | c. Najgušće naseljena regija |
| 4. Jugoistična Azija | d. Dominantno negroidno stanovništvo |
| 5. Istočna Azija | e. Najrazuđenija regija |
| | f. U imenima svih država riječ „stan” (zemlja) |

1. _____
2. _____
3. _____
4. _____
5. _____

5

16



P | 5PQFZ | 12

Pažljivo pročitajte navedene tvrdnje i odredite da li su tačne (T) ili nijesu (N). Zaokruži (T) ako misliš da je tvrdnja tačna, odnosno (N) ako misliš da je tvrdnja netačana.

- | | | |
|--|---|---|
| a. Artička oblast je duplo veća od Evrope | T | N |
| b. Polarne oblasti su najranije otkrivene | T | N |
| c. Klima Antarktika je blaža od klime Artika | T | N |
| d. Ozonska rupa se nalazi iznad Artika | T | N |

4



T | PRVW00 | 13

17



P | JJW5F | 13

U sljedećem zadatku svakom pojmu u lijevoj koloni možete pridružiti samo jedan pojam iz desne kolone. Na linijama treba uz broj koji označava pojam u lijevoj koloni upisati slovo tačnog odgovora iz desne kolone. Pazite, jedan odgovor na desnoj strani je višak.

- | | |
|---------------------|---|
| 1. Insolacija | a. broj umrlih na 1000 stanovnika tokom jedne godine |
| 2. Mortalitet | b. stvarna dužina obale u odnosu na najkraće rastojanje |
| 3. Razuđenost obale | c. dužina trajanja sunčevog sjaja |
| | d. površ dubokog krša |

1. _____

2. _____

3. _____

3

18



P | 8QMQM | 13

Dopuni rečenicu:

Prema prirodnim odlikama Crna Gora je _____ i _____ zemlja, i pripada _____ klimatskom pojasu. Riječni tokovi Crne Gore otiču u dva morskna sliva, a to su _____ i _____ sliv.

5



19.

Na linijama iza broja napiši naziv planine, koja je obelježena brojem na karti:



- 1 _____
- 2 _____
- 3 _____
- 4 _____
- 5 _____
- 6 _____

6



T | PRVW00 | 15

20



P | N5JKJ | 15

Dopuni rečenicu:

Dužina Jadranskog mora je oko _____ km a širina oko _____ km. Najveća dubina je između Crne Gore i Italije i iznosi _____ metara.

3

21



P | AZKE8 | 15

Prepoznajte jezero sa slike (svako posebno). Ispod napišite o kojem se jezeru radi?



3



22

Na linijama pored broja upišite nazive rijeka sa karte, koje su obilježene brojevima.



1. _____
2. _____
3. _____
4. _____

4



23



P | QD9FS | 17

Nabroj tri klimatske faktore koji utiču na formiranje klime u Crnoj Gori:

- a. _____
- b. _____
- c. _____

3

24



P | 2EKJB | 17

Ispod slike prepoznaj i imenuj spomenike kulturne baštine Crne Gore.



3



T | PRVW00 | 18



T | PRVW00 | 19



POPUNJAVA KOMISIJA ZA OCJENJIVANJE

Ukupan broj osvojenih bodova na testu: _____

Ocjena: _____

KOMISIJA:

GLAVNI OCJENJIVAČ:

Dana _____ 20____. godine