



**ISPITNI  
CENTAR  
DRŽAVNO  
TAKMIČENJE 2024.**


**AUTOR/AUTORKA TESTA** \_\_\_\_\_

**RECENZENT/RECENZENTKINJA** \_\_\_\_\_

**PODGORICA,** \_\_\_\_\_ **20** \_\_\_\_\_ **GODINE**

**SREDNJA ŠKOLA**

# **GEOGRAFIJA**





## Uputstva za takmičare

### Dragi takmičari

- prije početka izrade testa pažljivo pročitajte svako pitanje, potom ih rješavajte;
- prilikom izrade testova nijesu vam potrebna nikakva pomagala, koristite samo hemijsku olovku i ovaj test;
- vrijeme predviđeno za izradu testa je **60 minuta**;

**Želimo vam puno uspjeha u radu !**



1. Zaokruži tačan odgovor:

a) Među navedenim ostrvima Azije, ekvator prolazi kroz:

- 1) Šri Lanku
- 2) Javu
- 3) Tajvan
- 4) **Sulawesi**

b) Među navedenim ostrvima, u Okeaniji se ne nalaze:

- 1) Maršalska ostrva
- 2) Tahiti
- 3) **Kajmanska ostrva**
- 4) Tuvalu

c) Među navedenim rijekama, deltasto ušće nema:

- a) Bramaputra
- b) **Ob**
- c) Misisipi
- d) Gang

3 poena

2. Dopuni rečenice.

a) S obzirom na sadržaj hranljivih materija i organskoj produkciji sva slatkovodna jezera su svrstana u tri grupe: **eutrofna, oligotrofna i distrofna**.

b) Zemljino jezgro sastoji se od **nikla i gvožđa**. Pa ga ponekad nazivaju i **nife**.

c) U pustinjskoj unutrašnjosti sjeverne Afrike jedino su naseljene oaze u kojima većinu stanovništva čine **Arapi i Berberi**.

8 poena


3. Pronađi uljeza – jezero koje ne pripada navedenom nizu (zaokruži slovo ispred odgovarajućeg pojma) i obrazloži zašto:

- a) Kaspijsko jezero
- b) **Bajkalsko jezero**
- c) Jezero Čad
- d) Aralsko jezero

**Bajkalsko jezero je protočno, ostala nijesu.**

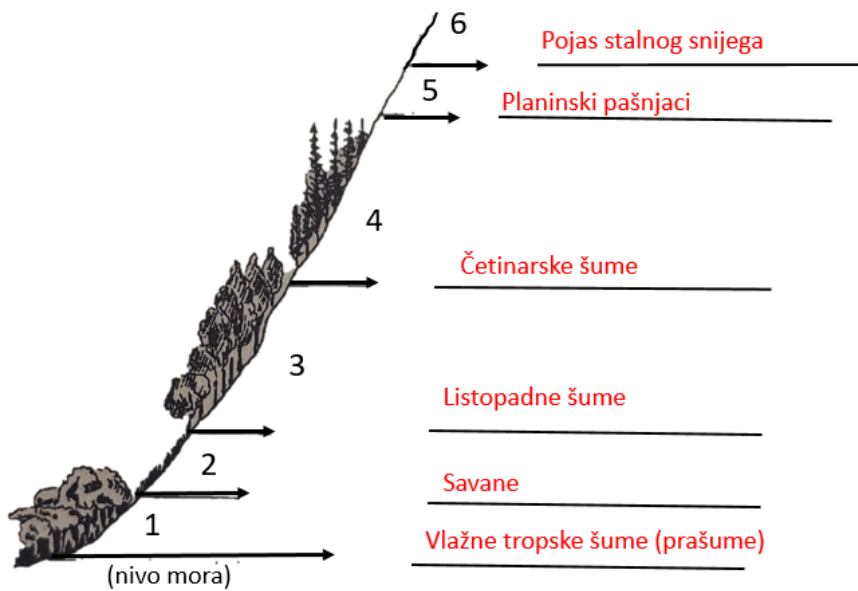
2 poena

4. Na fotografiji se nalazi **fosil trilobita**, najstariji i najprimitivniji zglavkari karakteristični za **paleozojsku** eru.



2 poena

5. Na skici je data smjena vegetacijskih spratova na planinama ekvatorijalnog pojasa. Na crtama pored upisi o kojoj vegetacijskom spratu je riječ.



6 poena

6. Poređajte sledeće gradove prema vremenu izlaska Sunca brojevima od 1 do 5, počevši od mjesta gdje Sunce prvo izlazi, zaključno sa mjestom gdje Sunce poslednje izlazi.

3 Tripoli 1 Tajpej 4 Praja 2 Ašhabad 5 Mangava

5 poena

7. Poveži gradove sa institucijama koja u njima imaju sjedišta.(Pazite, jedan odgovor je višak):

C Evropski sud za ljudska prava  
B Evropski sud pravde  
D Međunarodni sud pravde  
A Sjedište Sjevernoatlantskog saveza

A Brisel  
B Luksemburg  
C Strasburg  
D Hag  
E London

4 poena

8. Data je nijema karta Južne Amerike, na liniji pored broja upisati imena država i njihovih glavnih gradova :



1Paragvaj, Asunsion

2Gvajana, Dzordztaun

3Venecuela, Karakas

4Ekvador, Kito

8 poena

9. Na linijama iza broja napiši naziv rijeke ili jezera obilježenog na karti odgovarajućim brojem:



1 **Kaspijsko jezero**

2 **Aralsko jezero**

3 **Ob**

4 **Bajkalsko jezero**

5 **Ind**

6 **Mekong**

5 poena

10. Oksidi su veoma rasprostranjena grupa minerala. Na fotografiji je prikazan mineral **Ametist**, koji predstavlja varijetet **kvarca**.



2 poena



**11. Dopuni rečenice:**

- a) **Šasko** jezero formirano je u najnižem dijelu uvale Brisko polje.
- b) Prvi popis stanovništva zasnovan na savremenoj naučnoj metodologiji u Crnoj Gori obavljen je **1921.** godine.
- c) Najznačajnija ruda obojenih metala koja se eksploatiše u našoj zemlji su **crveni boksiti.**
- d) Kanjon Grlje se nalazi u podnožju planine **Prokletije** u opštini **Gusinje.**
- e) Tivatskoj rivijeri pripadaju ostrva: **Ostrvo cvijeća, Sveti Marko i Gospa od milosrđa.**

8 poena

**12. Jedan od dva ponuđena odgovora je tačan. Zaokruži tačan odgovor.**

- a) Najveće polje u krasu Crne Gore je Cetinjsko/ **Nikšićko.**
- b) Gornjepoljski vir je **estavela**/ potajnica.
- c) Lednik Debeli namet nalazi se na Prokletijama/ **Durmitoru.**
- d) Na području opštine Plužine rasprostranjena je crvenica/**karbonatna zemljišta.**
- e) Univerzitet Crne Gore osnovan je 1964./**1974.** godine.
- f) Bazna smeđa zemljišta obrazuju se **na nekadašnjim jezerskim sedimentima kotlina i kraških polja / u zonama iznad 1600 m n.v.**
- g) Salinitet Jadranskog mora se smanjuje: **od juga prema sjeveru**/ od sjevera prema jugu.

7 poena

**13. Na karti je metodom boja prikazana pedološka karta Crne Gore. Prema prikazanom sadržaju ova karta pripada grupi tematskih karata.**



1poen

14. Poveži geografske prostore s pripadajućim državama i njihovim oblicima, upisivanjem jednog slova i jednog broja na crte ispred njih. (Pazite, jedno slovo i broj je višak).

B5 Balaton

C1 Pind

E2 Pag

A3 Pilica

A Poljska

B Mađarska

C Grčka

D Rumunija

E Hrvatska

1 planina

2 ostrvo

3 rijeka

4 poluostrvo

5 jezero

8 poena



