

GEOGRAFIJA



EKSTERNA PROVJERA ZNANJA UČENIKA NA KRAJU III CIKLUSA OSNOVNE ŠKOLE

UPUTSTVO

TEST IZ GEOGRAFIJE TRAJE 70 MINUTA.

Maksimalan broj bodova je **100**.
Netačno riješen ili neurađen zadatak **ne donosi negativne poene**.

Na ispitu nije dozvoljeno sljedeće ponašanje:

- lažno predstavljanje,
- otvaranje ispitnih zadataka prije dozvoljenog vremena,
- ometanje drugih učenika,
- korišćenje nedozvoljenog pribora,
- unošenje jela na ispit (dozvoljena je samo voda),
- nepoštovanje znaka za završetak ispita.

Dozvoljen pribor je: grafitna olovka i gumica, hemijska olovka i korektor.
Učenikov rad mora biti napisan hemijskom olovkom.

APRIL, ŠKOLSKE 2022/2023. GODINE

ŠIFRA UČENIKA

1.

Odredi se prema tvrdnjama:

Zaokruži (T) ako misliš da je tvrdnja tačna, odnosno (N) ako misliš da je tvrdnja netačna.

- | | | |
|--|---|---|
| A. Mrtvo more je najveća depresija na Zemlji | T | N |
| B. Marijanski rov je najdublji dio svetskog okeana | T | N |
| C. Biogradsko jezero je kriptodepresija | T | N |
| D. Kaspijsko jezero je slano | T | N |

4 boda

2.

Povežite pojmove (jedan pojam je viška):

- | | |
|---------------|----------------------|
| 1. Litosfera | A. Vodeni omotač |
| 2. Hidrosfera | B. Živi omotač |
| 3. Atmosfera | C. Gasoviti omotač |
| 4. Biosfera | D. Vazdušni omotač |
| | E. Stjenoviti omotač |

1. _____
2. _____
3. _____
4. _____

4 boda

3.

Voda koja se nalazi u vodonosnom sloju zove se:

- A. Vrulja
- B. Izvor
- C. Izdan

1 bod

4.

Kako se zove uski vijugavi zaliv prikazan na fotografiji:



- A. Rijas
- B. Fjord
- C. Kanal

1 bod

5. Nabroj četiri spoljašnje sile koje mijenjaju reljef.

1. _____
2. _____
3. _____
4. _____

4 boda

6. Upiši značenje navedenih pojmova:

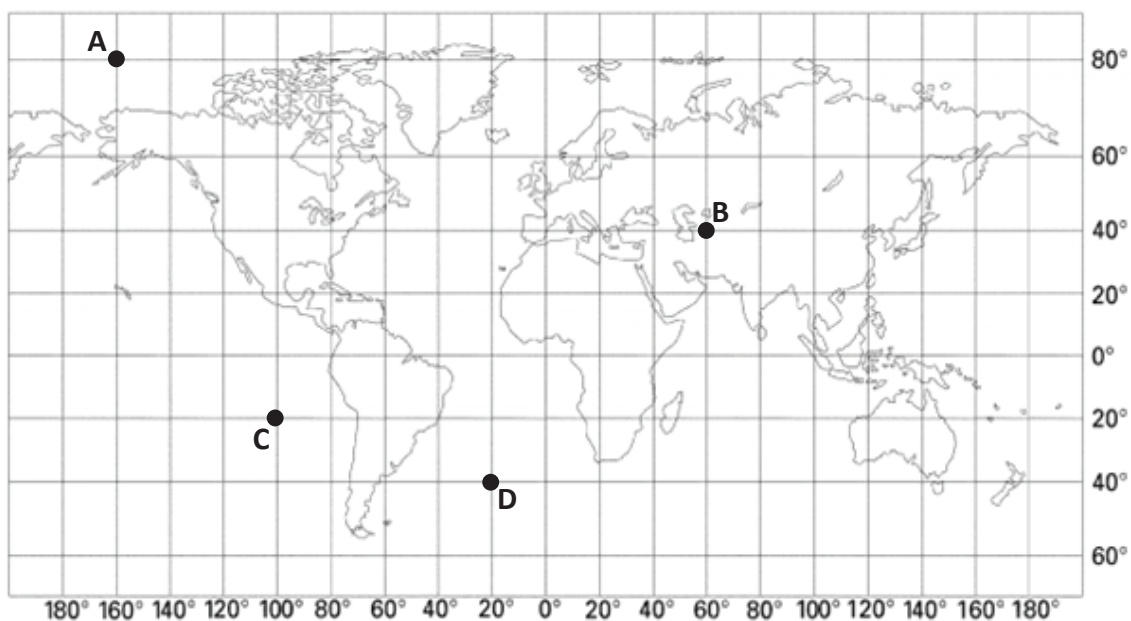
POJMOVI:

ZNAČENJE:

1. Geografski nazivi ili _____
2. Mrtvaja ili _____
3. Meridijan ili _____
4. Kosmos ili _____
5. Asteroid ili _____

5 bodova

7. Odredi geografsku širinu i dužinu tačaka prikazanih na karti.



GEOGRAFSKA ŠIRINA

GEOGRAFSKA DUŽINA

Tačka A _____

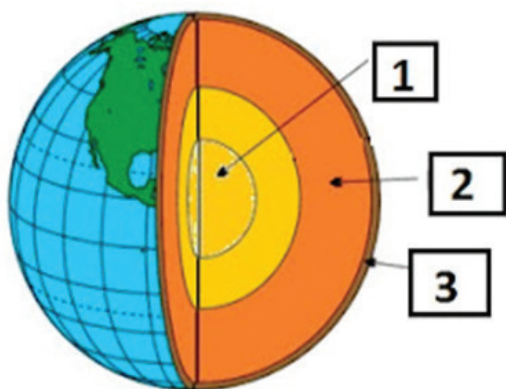
Tačka B _____

Tačka C _____

Tačka D _____

8 bodova

8. Upiši pojmove prikazane na slici.



1. _____
2. _____
3. _____

3 boda

9. Šta je nizija?

1 bod

10. Geografija je:

1. prirodna nauka
2. prirodna i društvena nauka
3. društvena nauka

1 bod

11. Dopuni rečenicu:

Voda zarobljena između dva vododrživa sloja je _____ izdan.

1 boda

12. Dopuni rečenicu:

Estavela je pukotina u kršu koja u kišnom period funkcioniše kao _____, a u sušnom kao _____. Najveća estavela u Crnoj Gori je _____ u _____ kraškom polju.

4 boda

13. Koja nebeska tijela se nazivaju zvijezdama repaticama?

1. Zvezdoliki
2. Asteroidi
3. Komete

1 boda

14. Na karti Evrope brojevima od 1 do 4 označena su velika poluostrva. Upiši njihove nazive na linijama koje su obilježene brojevima.



1. _____
2. _____
3. _____
4. _____

4 boda

15. Na karti Evrope brojevima od 1 do 4 označena su dva okeana i dva veća mora. Na linijama koje su obilježene bročano upiši njihove naziv



1. _____
2. _____
3. _____
4. _____

4 boda

16. Navedi države Skandinavije.

- A. _____
- B. _____
- C. _____

3 boda

17. Na karti Azije brojevima su označene regije, upisati nazive regije na osnovu datih brojeva.



- 1. _____
- 2. _____
- 3. _____
- 4. _____
- 5. _____
- 6. _____

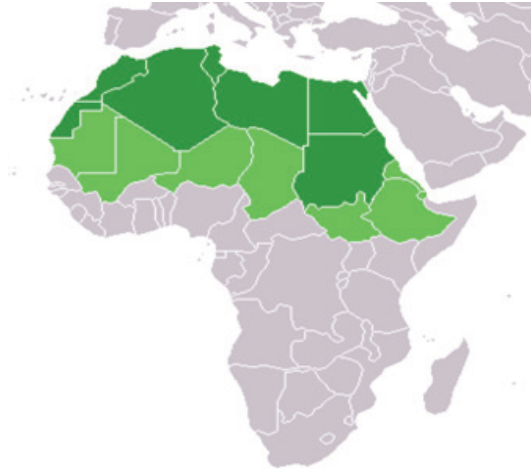
6 bodova

18. Navedi po dvije rijeke.

- A. U Kini: _____, _____.
- B. U Indiji: _____, _____.

4 boda

19. Na označenim teritorijama tamno zelene boje na karti Sjeverne Afrike upiši brojeve naznačenih država.



1. Zapadna Sahara
2. Maroko
3. Alžir
4. Tunis
5. Libija
6. Egipat
7. Sudan

7 boda

20. Koja jezera čine sistem Velikih jezera u Sjevernoj Americi?

- A. _____ D. _____
B. _____ E. _____
C. _____

5 bodova

21. Na nijemoj karti Južne Amerike brojevima označi oblasti koje predstavljaju glavne reljefne cjeline.



1. Amazonija
2. Pampasi
3. Andi

3 boda

22. Odgovori na pitanja vezana za Australiju.

- A. Ko su starosjedoci? _____
- B. Koji su prvi naseljenici? _____
- C. Koji je glavni grad? _____
- D. Kojoj životinjskoj vrsti pripada kengur? _____

4 boda

23. U sastav koje države je ušla Crna Gora (poveži pojmove sa vremenskom odrednicom. Jedan pojam je višak)

- A. poslije raspada Jugoslavije.
- B. poslije Prvog svjetskog rata Jugoslavija (SFRJ).
- C. poslije Drugog svjetskog rata.

- 1. Kraljevina Seba, Hrvata i Slovenaca
- 2. Socijalistička Federativna Republika
- 3. Srbija i Crna Gora
- 4. Republika Crna Gora

- A. _____
- B. _____
- C. _____

3 boda

24. Dopuni rečenicu:

- A. Ako je Nikšić primjer prelazne klime, koji crnogorski grad je tipičan predstavnik izmijenjeno-sredozemne klime? _____
- B. Ukoliko su u igri asocijacija zadate riječi – crnogorska rijeka, „suza Evrope“, drugi kanjon svijeta – koje je rješenje asocijacije? _____

2 boda

25. Znakom + u svakoj koloni označi riječ koja narušava logički slijed.

- | | | | |
|--|--|--|---|
| a) Morača
Zeta
Bojana
Piva | b) Rijeka Crnojevića
Lim
Ćehotina
Ibar | c) Sveti Đorđe
Gospa od Škrpjela
Volujica
Otok | d) Crno jezero
Biogradsko jezero
Plavsko jezero
Pivsko jezero |
|--|--|--|---|

4 boda

26. Zaokruži tačan odgovor.

Najveće kraško polje u Crnoj Gori je:

- A. Cetinjsko polje
- B. Nikšićko polje
- C. Grahovsko polje

1 bod

27. Dopuni rečenice:

Crna Gora je donošenjem Deklaracije 19____. godine, postala prva ekološka država u svijetu. Na njenoj teritoriji nalaze se 5 nacionalnih parkova: _____,

_____, _____, _____.

6 bodova

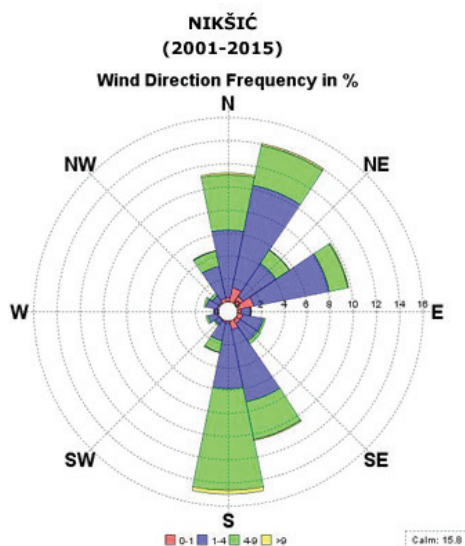
28. Dopuni rečenice:

Kada kažemo da je neko jezero kriptodepresija, to znači da njegovo dno leži _____, a površina _____ morskog nivoa. Tipičan primjer takvog jezera u Crnoj Gori je

_____.

3 boda

29. Na slici je prikaz ruže vjetrova Nikšića, a karakterističan je za još dva crnogorska grada. Koji su to gradovi?



A. _____

B. _____

2 boda

30. Koji grad u Crnoj Gori je proglašen ekološkom prijestonicom? _____

1 bod



POPUNJAVA KOMISIJA ZA OCJENJIVANJE

Ukupan broj osvojenih bodova na testu: _____

Ocjena: _____

KOMISIJA:

GLAVNI OCJENJIVAČ:

Dana _____ 20____. godine