

 ispitni centar  
**PRAVA  
MJERA  
ZNAŃJA**

# DRŽAVNO TAKMIČENJE 2015.

SREDNJA ŠKOLA, II RAZRED

# GEOGRAFIJA

Autorka/autor testa .....

Recenzentkinja/recenzent .....

Podgorica, ..... 20..... godine

1. .Ako je rastojanje između u dva mjesta na karti 4 cm, koliko ono iznosi u prirodi, ako je razmjer karte:

a)  $R=1: 50\ 000$  stvarno rastojanje je **2 km**

b)  $R=1: 300\ 000$  stvarno rastojanje je **12 km**

2. Geološka era kenozoik ima dvije periode **tercijar** i **kvartar**, koja je najmlađa perioda u razvoju zemlje, a dijeli se na dvije epohe **pleistocen**, poznat po ledenom dobu i **holocen**, koji traje i danas.

3. Na osnovu broja registrovanih zemljotresa na Zemlji su izdvojena tri seizmička pojasa:

a) **Mediterranski (transazijski);**

b) **Tihookeanski;**

c) **Arktički.**

4.

Napiši šta predstavljaju brojevi na slici:

1) **ognjište vulkana**

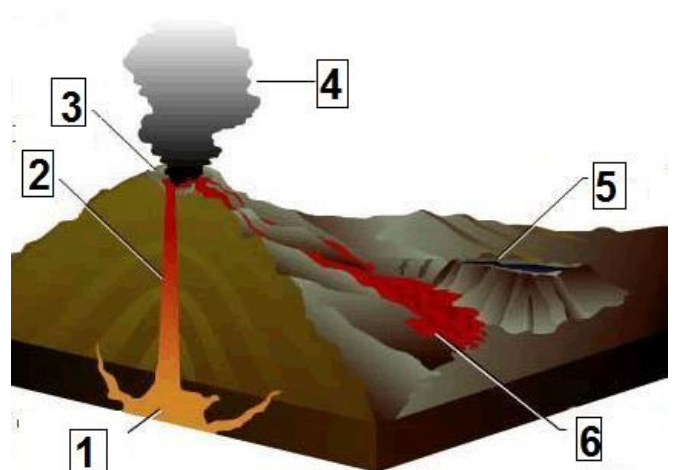
2) **glavni kanal**

3) **krater**

4) **oblaci erupcije**

5) **vulkanska kupa**

6) **potoci lave**



5. Poveži i parove, na liniji ispred naziva upiši odgovarajuće slovo iz lijeve kolone:

a) brzina vjetra

b) tropski kišni klimati

c) prozvidnost vode

c) Sekijev kotur

\_\_\_\_\_ Iran, Patagonija

a) anemometar

\_\_\_\_\_ pluviograf

b) Amazonija, sliv Konga

6. Na linijama pored datog broja upiši nazive biljnih oblasti:

1 **tundra**

2 **borealne četinarske šume**

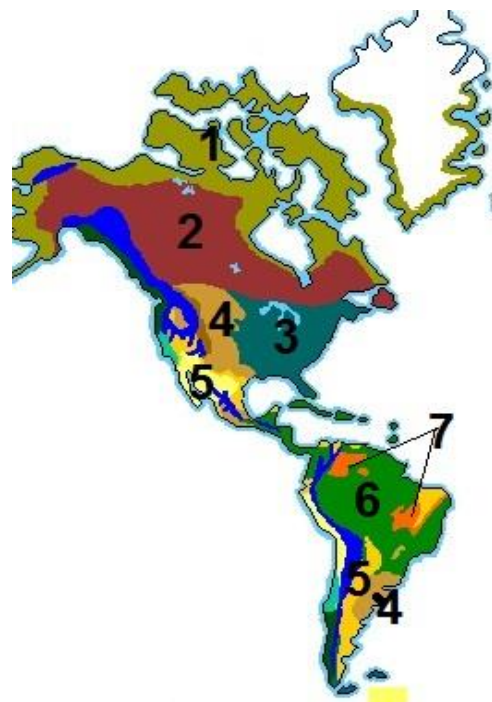
3 **listopadna šuma**

4 **prerije**

5 **pustinje**

6 **tropske šume**

7 **savane**



7. Riječ nom erozijom nastaju erozivni i akumulativni oblici reljefa. Akumulativni oblici nastaju taloženjem materijala koji voda nosi, to su:

a) **plavine**

b) **riječ na ostrva (ade)**

c) **delfe**

d) **aluvijalne ravni**

**8.** Spojite parove, na liniji ispred naziva jezera upišite slovo koje odgovara načinu nastanka tog jezera:

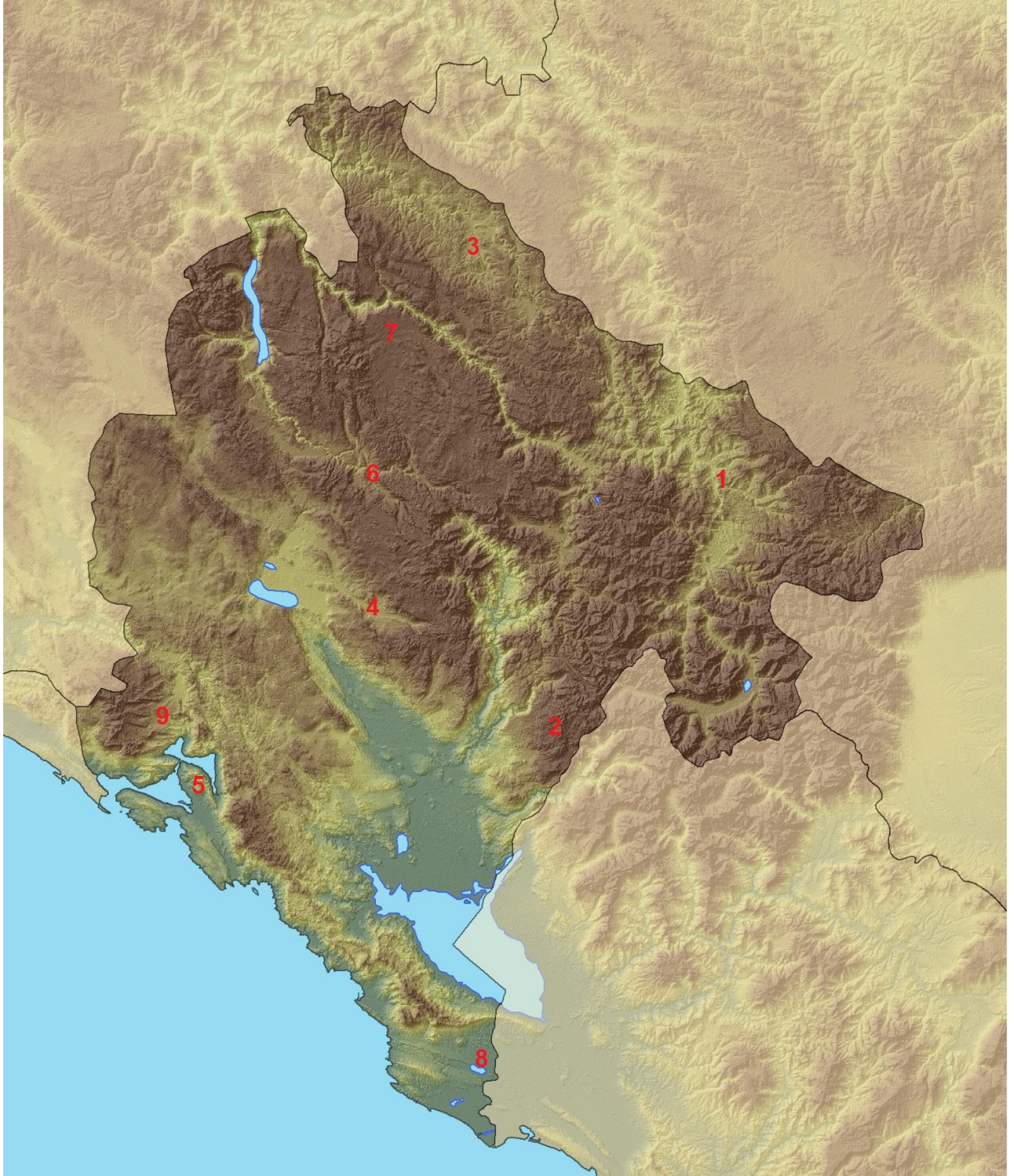
- |                 |                        |
|-----------------|------------------------|
| a) tektonsko    | <b>d)</b> Skadarsko    |
| b) vulkansko    | _____ Plitvička jezera |
| c) ledničko     | _____ Obodarska bara   |
| d) poligenetsko | <b>a)</b> Tanganjika   |
|                 | <b>c)</b> Bodensko     |
|                 | <b>b)</b> Albano       |

**9.** Najvažni rudarski potencijali Crne Gore su proizvodnja uglja, najveći rudnik je u **Pljevljima**, boksita, posebno crvenog čiju eksploataciju vrše **Rudnici boksita u Nikšiću**.

**10.** Zbog različitosti obale na barskoj rivijeri su formirane veće i manje morske plaže, ima ih oko **20**, a njihova ukupna dužina iznosi **9 000 m**.

**11.** Na karti Crne Gore na odgovarajućem mjestu upiši broj:

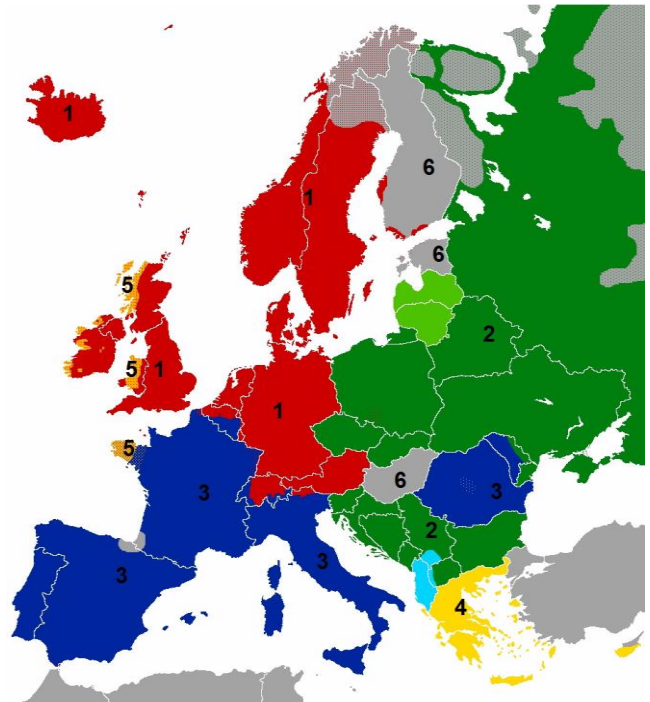
- 1) dolina rijeke Lim
- 2) Kući
- 3) Pljevaljska kotlina
- 4) dolina rijeke Zete
- 5) opština sa najvećom gustoćom naseljenosti
- 6) opština sa najmanjim brojem stanovnika
- 7) najviše gradsko naselje
- 8) Šasko jezero
- 9) mjesto sa najvećom količinom padavina



12. Izbaci uljeza: Španija, Grčka, Holandija, Litvanija, **Bjelorusija**, Rumunija. ( Bjelorusija je kontinentalna država).

13. Pored brojeva upiši jezike i grupe jezika sa karte:

- 1 **germanska**
- 2 **slovenska**
- 3 **romanska**
- 4 **grčki jezik**
- 5 **keltski**
- 6 **ugro-finski**



14. Obiljež i brojevima od 1 do 4 gradove u Aziji po geografskoj širini (počev od ekvatora):

- |        |                 |
|--------|-----------------|
| Bagdad | 1 <b>Manila</b> |
| Delhi  | 2 <b>Delhi</b>  |
| Manila | 3 <b>Bagdad</b> |
| Seul   | 4 <b>Seul</b>   |

15. U narednom tekstu od dva ponuđena poma (ispisana tamnim slovima) odaberi i zaokruži tačan. Po površini najveća afrička država je **DR Kongo/Alžir**, dok je po broju stanovnika najveća **Tanzanija/Kongo**. Najveće afričko jezero je **Viktorijino/Čad**. U deset najsiromašnijih zemalja svijeta spada **Etiopija/Bocvana**.

**16.** Od ponuđenih pojmova lijevo upotrebi odgovarajuće za termine na desnoj strani:

zambosi	<b>zambosi</b>	mješanci crnaca i žute rase
mestici		
nafta	<b>ugalj</b>	Apalačke planine
ugalj		
hemijska industrija	<b>hemijska industrija</b>	Teksas i Lujizjana
pamuk		

**17.** Centar rudarske proizvodnje u Brazilu, poznat po čeličanim je **Belo Horizonte** a najveća luka (u svijetu) za izvoz kafe je **Santos**.

**18.** Obala Australije je slabo razučena, izuzev sjevernog dijela gdje je veliki **Karpenerski** zaliv, na jugu je drugi **Veliki australski** zaliv.

**19.** Novi Zeland je bio naseljen mnogo prije dolaska Evropljana. Starosjedioci stanovništvo su:

a) Aboridžini

**b) Maori**

c) Melanežijci (zaokruži tačan odgovor)

**20.** Za vrijeme kratkog ljeta, na površinama bez leda, na Arktiku se javlja vegetacija **tundre**, dok na Antarktiku nema vegetacije, a prosječna debljina leda iznosi **2 000** m.

Zadatak	Broj bodova
1	2
2	4
3	3
4	6
5	3
6	7
7	4
8	4
9	3
10	2
11	9
12	1
13	6
14	4
15	3
16	2
17	2
18	2
19	1
20	2
Ukupno	70