



GEOGRAFIJA

EKSTERNA PROVJERA ZNANJA UČENIKA
NA KRAJU III CIKLUSA OSNOVNE ŠKOLE

JUN, ŠKOLSKE 2014/2015. GODINE

UPUTSTVO

Test iz geografije traje 70 minuta.

Maksimalan broj bodova je **100**. Netačno riješen ili neurađen zadatak **ne donosi** negativne poene.


Na ispitu nije dozvoljeno sljedeće ponašanje:

- lažno predstavljanje,
- otvaranje ispitnih zadataka prije dozvoljenog vremena,
- ometanje drugih učenika,
- korišćenje nedozvoljenog pribora,
- unošenje jela na ispit (dozvoljena je samo voda),
- nepoštovanje znaka za završetak ispita.

Dozvoljen pribor je: grafitna olovka i gumica, hemijska olovka i korektor. **Učenikov rad mora biti napisan hemijskom olovkom.**

ŠIFRA UČENIKA

1. Koja planeta sunčevog sistema ima prsten?



- A. Venera
- B. Mars
- C. Saturn
- D. Jupiter

1 bod	<input type="text"/>
-------	----------------------

2. Koliko puta godišnje sunčevi zraci padaju pod pravim uglom nad ekvatorom?

- A. Nijednom
- B. Jednom
- C. Dva
- D. četiri

1 bod	<input type="text"/>
-------	----------------------

3. U državama koje su označene na karti Afrike crnom bojom, stanovništvo čine pretežno:



- A. Arapi
- B. Bantu crnci
- C. Pigmeji
- D. Sudanski crnci

1 bod

Pažljivo pročitajte sljedeće tvrdnje I odredite se da li su tačne (T) ili netačne (N). Zaokruži (T) ako misliš da je tvrdnja tačna, odnosno (N) ako misliš da je tvrdnja netačna.

4. Odredi se prema sljedećim tvrdnjama:

A. Gustina naseljenosti se izražava brojem stanovnika na 1m^2

određene teritorije.

T N

B. Natalitet spada u prirodno kretanje stanovništva

T N

C. Broj stanovnika se povećava kada natalitet veći od mortaliteta.

T N

D. Prirodni priraštaj je najniži u razvijenom dijelu svijeta

T N

4 boda

5. Odredi se prema sljedećim tvrdnjama:

A. Pindske planine su u Grčkoj.

T N

B. Portugalija izlazi na Sredozemno more

T N

C. San Marino je najstarija republika

T N

D. Neretva je rijeka crnomorskog sliva

T N

4 boda

6. Odredi se prema sljedećim tvrdnjama:

- | | | |
|--|---|---|
| A. Afrički kontinent je većinom sagrađen od mladih stijena | T | N |
| B. Visoka Afrika zauzima istočni i južni dio kontinenta | T | N |
| C. Rijeke Afrike pripadaju slivu Atlantskog i Tihog okeana. | T | N |
| D. Džungle su teško prohodne šume koje rastu u ekvatorijalnom pojasu | T | N |

4 boda

7. Odgovoriti sa T ili N u odnosu na sljedeće tvrdnje:

- | | | |
|---|---|---|
| A. Najveće kraško polje u Crnoj Gori je Cetinjsko polje | T | N |
| B. Gornjepoljski vir u Nikšićkom polju je potajnica | T | N |
| C. Kraška polja su u geološkoj prošlosti bila jezera | T | N |
| D. Voda iz Njeguškog polja ponire a zatim se pojavljuje kroz jaka vrela na obali mora | T | N |

4 boda

U Sljedećim zadacima svakom pojmu u lijevoj koloni možete pridružiti samo jedan pojam iz desne kolone. Na linijama treba uz broj koji označava pojam u lijevoj koloni upisati slovo tačnog odgovora iz desne kolone. Pazite, jedan odgovor na desnoj strani je višak.

8. Povežite pojmove.

- | | |
|------------|---|
| 1. tombolo | A. Uski duboki morski zaliv strmih strana |
| 2. žalo | B. Koralno ostrvo |
| 3. fjord | C. Šljunkovita, pjeskovita obala |
| 4. atol | D. Oblik riječnoga ušća |
| | E. Ostrvo spojeno s kopnom |

1. _____

2. _____

3. _____

4. _____

4 boda

9. Povežite karakteristike sa njihovim kontinentima.

- | | |
|--------------------------|---------------|
| 1. Kontinent torbara | A. Afrika |
| 2. Najveći kontinent | B. Amerika |
| 3. Pretežno nizijski | C. Australija |
| 4. Sa najvećom pustinjom | D. Azija |
| | E. Evropa |

1) _____

2) _____

3) _____

4) _____

4 boda	
--------	--

10. Poveži gradove i manifestacije vezane za njih:

- | | |
|-------------------|----------------|
| 1. Zlatna pahulja | A. Budva |
| 2. Grad teatar | B. Podgorica |
| 3. Praznik mimoze | C. Rožaje |
| | D. Herceg Novi |

1. _____

2. _____

3. _____

3 boda	
--------	--

11. Turističkim mjestima pridružite njihovo glavno turističko obilježje:

(svakom mjestu odgovara po jedan pojam)

- | | |
|-------------|------------------------|
| 1. Durmitor | A. elitni turizam |
| 2. Igalo | B. kulturni turizam |
| 3. Tara | C. ski turizam |
| 4. Cetinje | D. zdravstveni turizam |
| | E. rafting |

1. _____
2. _____
3. _____
4. _____

4 boda	
--------	--

12. Geografija se dijeli na tri cjeline prema predmetu proučavanja:

- A. _____
B. _____
C. _____

3 boda	
--------	--

13. Odgovori:

- A. Stijene nastale očvršćavanjem lave nazivaju se _____,
B. Nastale taloženjem nazivaju se _____,
C. Nastale preobražajem drugih stijena _____.

3 boda	
--------	--

14. Dopuni rečenicu:

Mjesto u dubini gdje zemljotres nastaje je _____, dok je _____ mjesto na površini gdje se zemljotres najjače osjeti.

2 boda	
--------	--

15. Dopuni rečenicu:

Površina s koje sve rijeke teku prema jednome moru ili jezeru naziva se _____, a površina s kojega voda teče prema glavnoj rijeci s pritokama naziva se _____.

2 boda	
--------	--

16. Navedi tri velike skupine naroda kojima pripadaju stanovnici Evrope.

- A. _____
- B. _____
- C. _____

3 boda	
--------	--

17. Dopuni rečenicu:

Pepelom zatrpani gradovi Herkulanum i Pompeja nalaze se uz vulkan _____, a on pripada _____ vulkanskoj zoni.

2 boda	
--------	--

18. Koja tri velika poluostrva su dio Južne Evrope?

- A. _____
- B. _____
- C. _____

3 boda	
--------	--

19. Na karti označi:



Brojem 1. Politički neutralnu državu u kojoj su četiri jezika službena

Brojem 2. Sredozemnu državu jednu od osnivača Evropske zajednice 1957

Brojem 3. Državu sa najviše gejmira

Brojem 4. Evropsku državu čiji je glavni grad Beč

4 boda

20. Na praznim linijama napiši klimatski tip koji dominira u navedenom području Azije.

A. Indonezija _____

B. Tibet _____

C. Arabljansko poluostrvo _____

D. Velika istočna kineska nizija _____

4 boda	
--------	--

21. Dopuni rečenicu:

Sva mjesta u Sjevernoj Americi nalaze se _____ od ekvatora

_____ od Griniča. (strane svijeta)

2 boda	
--------	--

22. Navedi tri države u slivu rijeke Laplate u Južnoj Americi:

A. _____

B. _____

C. _____

3 boda	
--------	--

23. Od navedenih geografskih pojmova objašnjenjima pridružiti odgovarajuća upisujući ih na linije:

**1. Atlasi, 2. Sahara, 3. Madagaskar, 4. Ruvenzori 5. Kalahari, 6. Kilimandžaro,
7. Kongo. 8. Zambezi**

A. Najveće ostrvo Afrike je _____

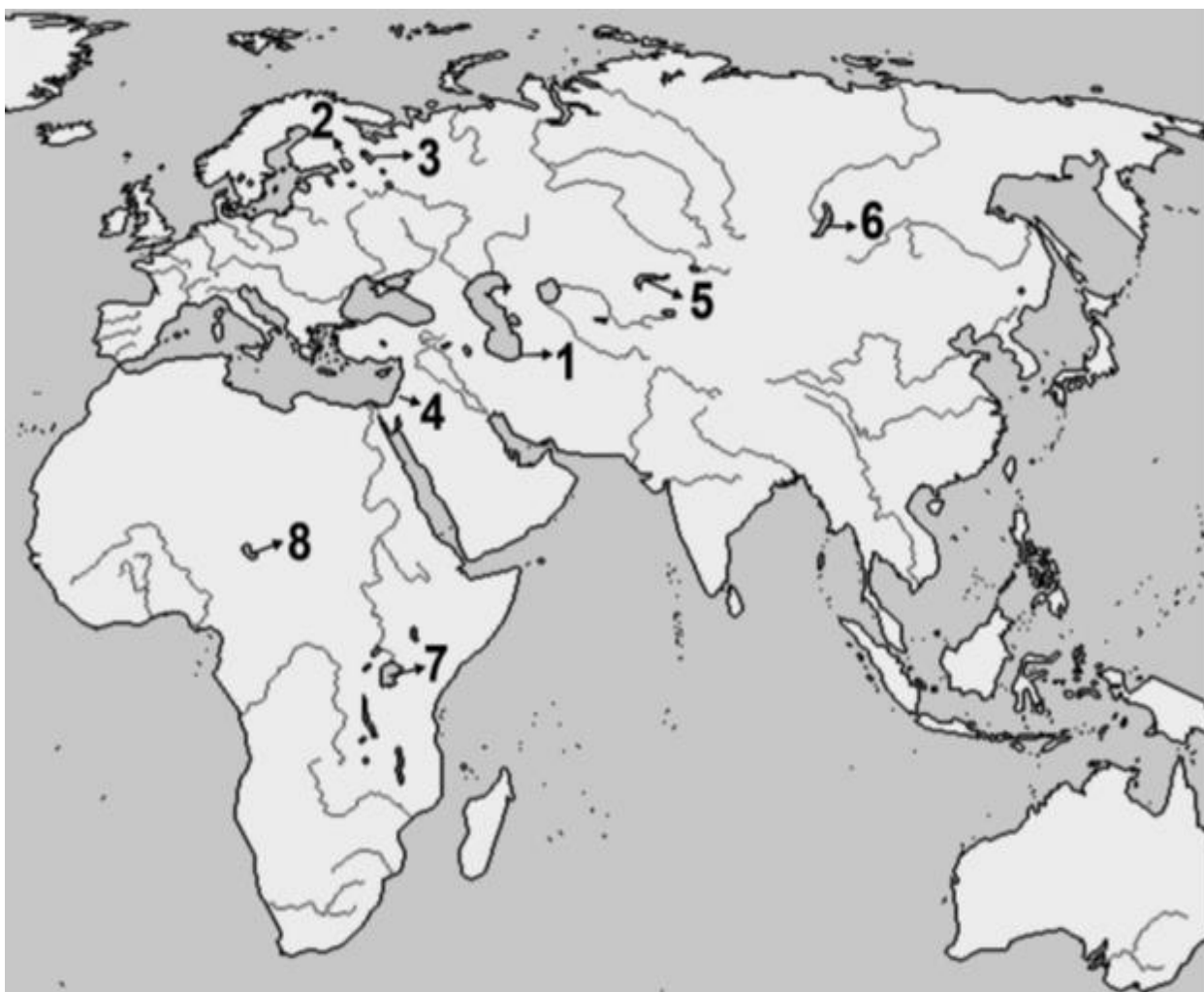
B. Prostire se od Atlanskog okeana do Crvenog mora _____

C. Vjenačne planine Afrike su _____

D. Viktorijin vodopad nalazi se na rijeci _____

4 boda	
--------	--

24. Posmatraj kartu:



A. Najdublje jezero je na karti obelježeno brojem _____ a njegovo ime je _____.

B. Površinom najveće jezero na karti je obilježeno brojem _____ a njegovo ime je _____.

C. Jezero koje se nalazi u najdubljijoj depresiji na karti je obilježeno brojem _____ a njegovo ime je _____.

6 bodova	
----------	--

25. Navedi tri od pet velikih jezera u Sjevernoj Americi na granici SAD-a i Kanade.



A. _____

B. _____

C. _____

3 boda	
--------	--

26. Dopuni rečenicu:

Rijeka Zeta pravi široku aluvijalnu ravan i to u gornjem toku kroz

_____ i u donjem toku kroz _____

2 boda	
--------	--

27. U Crnoj Gori postoje tri pruge, ukupne dužine 250 km. To su:

A. _____

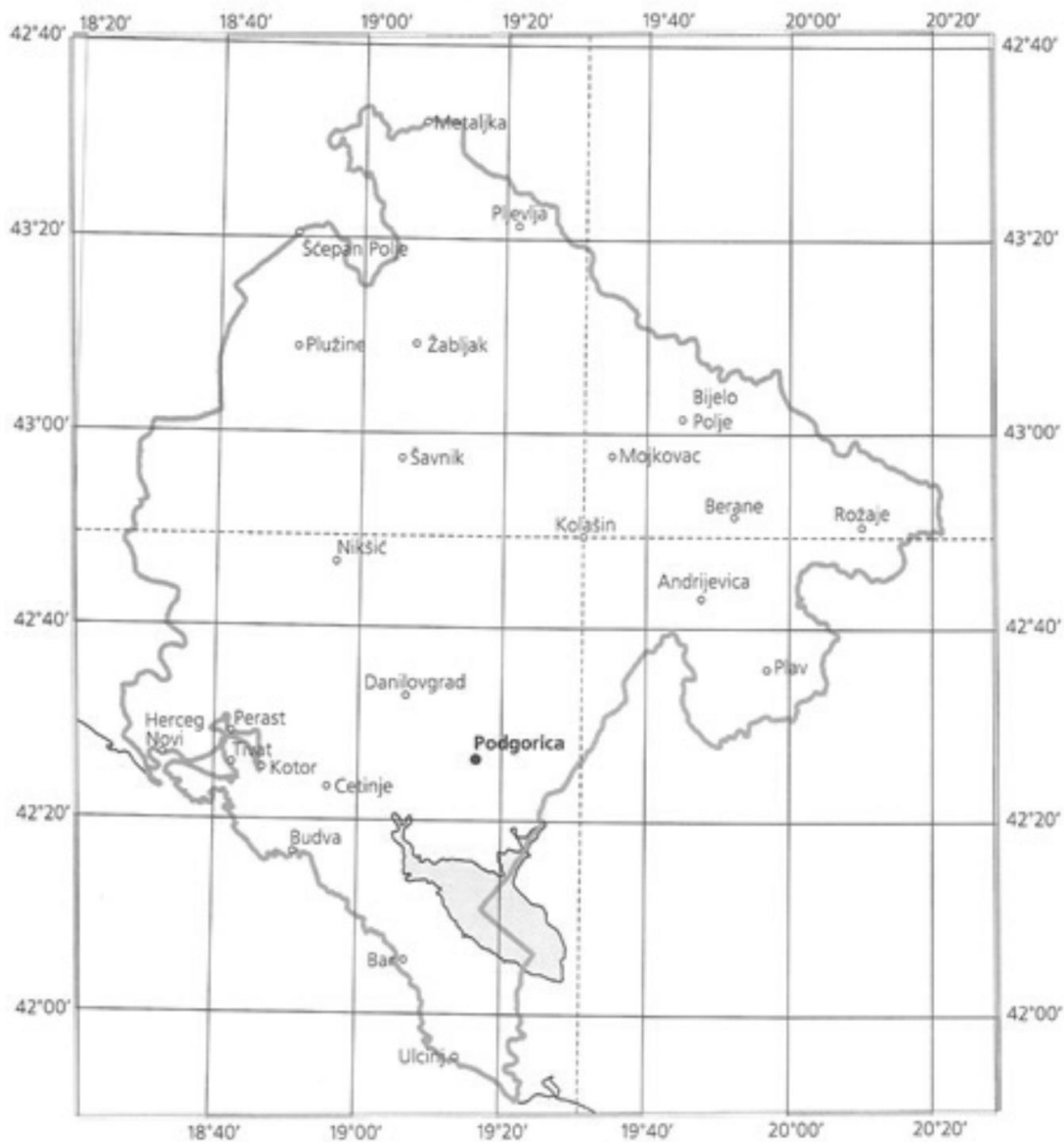
B. _____

C. _____

3 boda	
--------	--

28. Na konturnoj karti Crne Gore ucrtani su meridijani i paralele na svakih 20'.

Orijentišući se prema tim linijama odredi.



A. Geografsku širinu Kolašina _____

B. Geografsku dužinu Kolašina _____.

2 boda	
--------	--

29. Kojoj opštini pripada obilježena teritorija na karti? _____



Navedi dvije susjedne opštine obelježenoj opštini na karti.

A. _____

B. _____

3 boda

30. Iz kojih se zaliva sastoji Bokokotorski zaliv?



- A. _____
- B. _____
- C. _____
- D. _____

4 boda	
--------	--

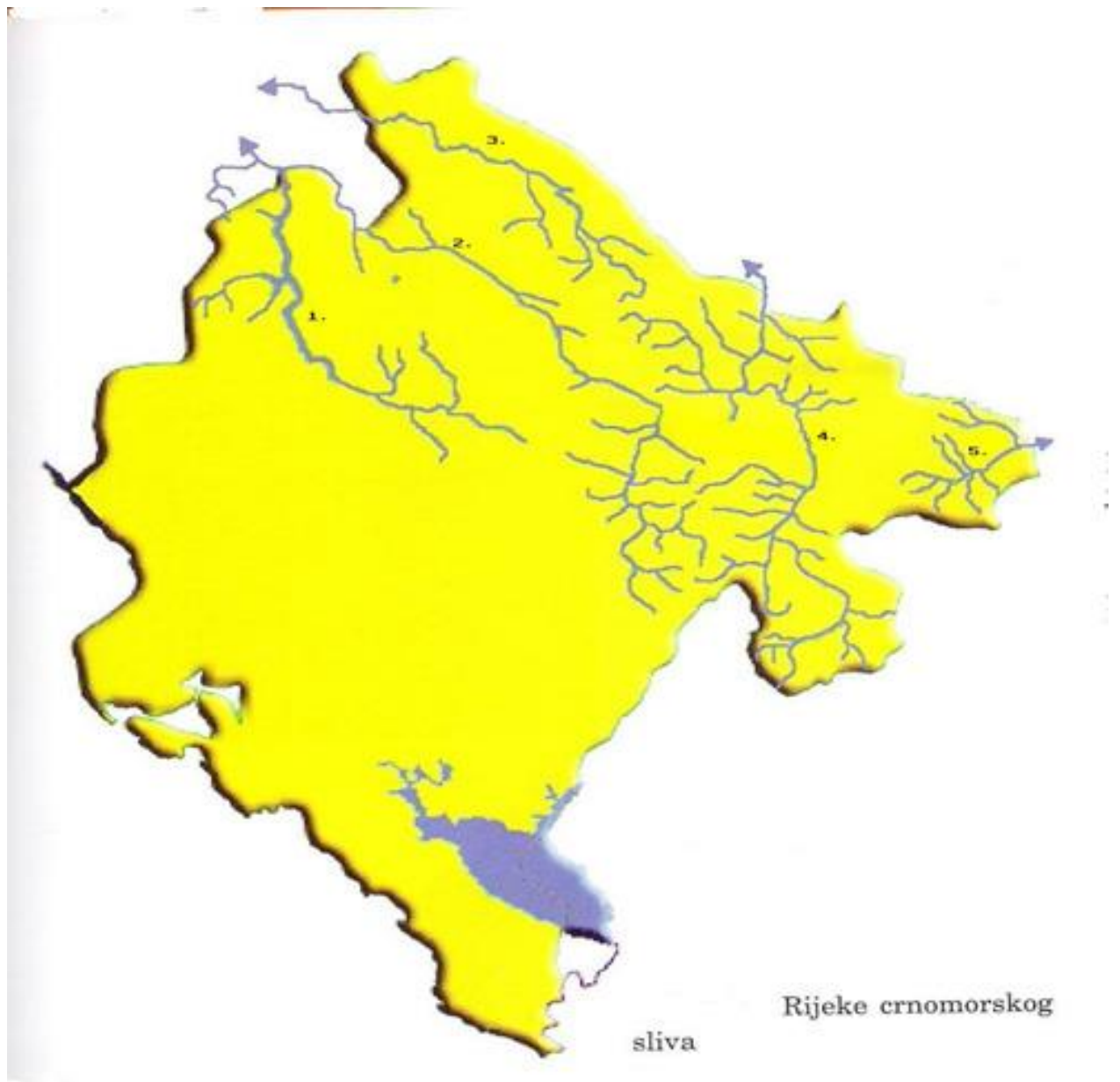
31. Posmatraj sliku i odgovori:



- A. Navedi naziv jezera sa slike _____
- B. Na kojoj planini se nalazi _____
- C. Kakvog je postanka ovo jezero _____

3 boda	
--------	--

32. Navedi rijeke Crnomorskog sliva:



1. _____
2. _____
3. _____
4. _____
5. _____

5 bodova	
----------	--

POPUNJAVA KOMISIJA ZA OCJENJIVANJE

Ukupan broj osvojenih bodova na testu: _____

Ocjena: _____

KOMISIJA:

GLAVNI OCJENJIVAČ: _____

Dana _____ 2015. godine