



# GEOGRAFI

KONTROLLIMI EKSTERN I DIJES SË NXËNËSVE  
NË FUND TË CIKLIT TË TRETË TË SHKOLLËS FILLORE

QERSHOR, VITIT MËSIMOR 2014/2015

## UDHËZIM

Testi nga gjeografia zgjat **70 minuta**.

Numri maksimal i pikëve është **100**. Detyra e cila nuk është zgjidhur saktë **nuk sjell** pikë negative.

Në provim nuk lejohet:

- prezantimi i rrejshëm,
- shikimi i detyrave të provimit para se të jap leje mësimdhënësi kujdestar,
- pengimi i nxënësve tjerë,
- përdorimi i mjeteve të palejuara,
- futja e ushqimit në provim (lejohet vetëm uji),
- mosrespektimi i shenjës për përfundimin e provimit.

**Mjetet e lejuara janë:** lapsi i thjeshtë dhe goma, lapsi kimik dhe korrektori. Punimi i nxënësit duhet të shkruhet me laps kimik.


**SHIFRA E NXËNËSIT**







**1. Cili planet i sistemit diellor ka një unazë?**



- A. Venera
- B. Marsi
- C. Saturni
- D. Jupiteri

1 pikë	<input type="text"/>
--------	----------------------

**2. Sa herë në vit rrezet e diellit bien nën këndin e drejtë mbi ekuator?**

- A. Asnjëherë
- B. Një herë
- C. Dy herë
- D. Katër herë

1 pikë	<input type="text"/>
--------	----------------------

3. Në shtetet të cilat janë shënuar me ngjyrë të zezë në hartën e Afrikës, popullsinë e tyre e përbëjnë kryesisht:



- A. Arabët
- B. Zezakët Bantu
- C. Pimejtë
- D. Zezakët e Sudanit

1 pikë	<input type="text"/>
--------	----------------------

Me kujdes lexoni pohimet e dhëna dhe caktoni nëse janë të sakta (S) apo të pasakta (P). Rrethojë (S) nëse mendon se konstatimi është i saktë, gjegjësisht (P) nëse mendon se pohimi është i pasaktë.

4. Përcaktoju ndaj pohimeve.

- |   |   |   |
|---|---|---|
| A. Dendësia e popullimit shprehet me numrin e popullsisë në 1m <sup>2</sup> të një territori. | S | P |
| B. Natalitet bën pjesë në lëvizjen natyrore të popullsisë.                                    | S | P |
| C. Numri i banorëve rritet kur nataliteti është më i madh se mortaliteti.                     | S | P |
| D. Rritja natyrore është më e ulët në pjesën e zhvilluar të botës.                            | S | P |

4 pikë	<input type="text"/>
--------	----------------------

5. Përcaktoju ndaj pohimeve.

- |  |   |   |
|--|---|---|
| A. Malet Pinde janë në Greqi                       | S | P |
| B. Portugalia ka dalje në Detin e Mesdheut         | S | P |
| C. San Marino është republika më e vjetër          | S | P |
| D. Neretva është një lum që derdhet në Detin e Zi. | S | P |

4 pikë	<input type="text"/>
--------	----------------------

**6. Përcaktoju ndaj pohimeve.**

- |   |   |   |
|---|---|---|
| A. Kontinenti i Afrikës kryesisht është i ndërtuar nga shkëmbinjtë e rinj | S | P |
| B. Afrika e Larë shtrihet në pjesën lindore dhe jugore të Afrikës         | S | P |
| C. Lumenjtë e Afrikës i përkasin pellgut të Oqeanit Atlantik dhe Paqësor  | S | P |
| D. Xhunglat janë pyje të pakalueshme të cilat rriten në brezin ekuatorial | S | P |

4 pikë

**7. Përgjigju me S ose P në pohimet në vazhdim:**

- |   |   |   |
|---|---|---|
| A. Fusha më e madhe karstike në Mal të Zi është fusha e Cetinës   | S | P |
| B. Burimi i Gornjepoles në fushën e Nikshiqit është fshehtësirë   | S | P |
| C. Fushat karstike në të kaluarën gjeologjike kanë qere liqene  | S | P |
| D. Ujë të nga fusha e Njegushit humb dhe pastaj paraqitet përmes burimeve të fuqishme në bregun e detit | S | P |

4 pikë

Në detyrat në vazhdim çdo kuptimi në kolonën e majtë mund t'i bashkoni vetëm një nocion nga kolona e djathtë. Është e domosdoshme që mbi vija pranë numrit që tregon kuptimin në kolonën e majtë të shkruani shkronjën e përgjigjes së saktë nga kolona e djathtë. Keni kujdes, një përgjigje në anën e djathtë është e tepërt.

**8. Bashkoni nocionet.**

- |             |  |
|-------------|--|
| 1. tombolo  | A. Gji i ngushtë dhe i thellë i detit me anë të pjerrëta |
| 2. ranishte | B. Ishulli koral   |
| 3. fjordet  | C. Bregu me rërë, me zall                                |
| 4. atolet   | D. Forma e grykës së lumit                               |
|             | E. Ishulli i lidhur me tokën                             |

1. \_\_\_\_\_

2. \_\_\_\_\_

3. \_\_\_\_\_

4. \_\_\_\_\_

4 pikë

**9. Bashkoni veçoritë me kontinentet e tyre.**

- |                                |              |
|--------------------------------|--------------|
| 1. Kontinenti i strajcorëve    | A. Afrika    |
| 2. Kontinenti më i madh        | B. Amerika   |
| 3. Kryesisht i ultësirës       | C. Australia |
| 4. Me shkretëtirën më të madhe | D. Azia      |
|                                | E. Evropa    |

1) \_\_\_\_\_

2) \_\_\_\_\_

3) \_\_\_\_\_

4) \_\_\_\_\_

4 pikë	
--------	--

**10. Bashkoi qytetet dhe manifestimet që lidhen me to:**

- |                    |                |
|--------------------|----------------|
| 1. Fjolla e artë   | A. Budva       |
| 2. Qyteti teatër   | B. Podgorica   |
| 3. Festa e mimozës | C. Rozhaja     |
|                    | D. Herceg Novi |

1. \_\_\_\_\_

2. \_\_\_\_\_

3. \_\_\_\_\_

3 pikë	
--------	--

**11.Vendeve turistike bashkoni tiparet kryesore turistike:**

(secilit vend i përgjigjet nga një nocion)

- |              |                        |
|--------------|------------------------|
| 1. Durmitori | A. Turizmi elitar      |
| 2. Igallo    | B. Turizmi kulturor    |
| 3. Tara      | C. Turizmi i skijimit  |
| 4. Cetina    | D. Turizmi shëndetësor |
|              | E. Raftingu            |

1. \_\_\_\_\_

2. \_\_\_\_\_

3. \_\_\_\_\_

4. \_\_\_\_\_

4 pikë	
--------	--

**12. Sipas objektit të studimit gjeografia ndahet në tri tërësi:**

A. \_\_\_\_\_

B. \_\_\_\_\_

C. \_\_\_\_\_

3 pikë	
--------	--

**13.Përgjigju:**

A. Shkëmbinjtë e krijuar nga forcimi i lavës quhen \_\_\_\_\_,

B. Të krijuar nga shtresimi \_\_\_\_\_,

C. Të krijuar nga transformimi i shkëmbinjve tjerë \_\_\_\_\_.

3 pikë	
--------	--

**14. Plotësoje fjalinë:**

Vendi në thellësi ku formohet tërmeti është \_\_\_\_\_, derisa vendi mbi sipërfaqe ku dëgjohet tërmeti më së forti është \_\_\_\_\_.

2 pikë

**15. Plotësoje fjalinë:**

Sipërfaqja nga e cila të gjithë lumenjtë rrjedhin drejt një deti ose liqeni quhet \_\_\_\_\_, kurse sipërfaqja nga e cila uji rrjedh drejt lumit kryesor me degët e tij quhet \_\_\_\_\_.

2 pikë

**16. Ceki tri grupe të mëdha të popujve që u përkasin banorët e Evropës.**

- A. \_\_\_\_\_
- B. \_\_\_\_\_
- C. \_\_\_\_\_

3 pikë

**17. Plotësoje fjalinë:**

Qytetet e mbuluara me hi Herkulanumi dhe Pompei gjenden pranë vullkanit \_\_\_\_\_, kurse ai i përket zonës vullkanore \_\_\_\_\_.

2 pikë

**18. Cilat tri siujdhesat e mëdha janë pjesë e Evropës Jugore?**

- A. \_\_\_\_\_
- B. \_\_\_\_\_
- C. \_\_\_\_\_

3 pikë



**19. Shënoji në hartë:**



Me numrin 1 shtetin neutral politik në të cilin janë katër gjuhë zyrtare

Me numrin 2 shtetin mesdhetar një nga themeluesit e Bashkimit Evropian në vitin 1957

Me numrin 3 shtetin me gejzerët më të shumtë

Me numrin 4 shtetin evropian kryeqyteti i të cilit është Vjena

4 pikë	
--------	--

**20. Në vendin e lënë bosh mbi vija shkruaje tipin klimatik që dominon në rajonin e dhënë të Azisë.**

A. Indonezia \_\_\_\_\_

B. Tibeti \_\_\_\_\_

C. Gadishulli Arabik \_\_\_\_\_

D. Ultësira e madhe kineze e lindjes \_\_\_\_\_

4 pikë

**21. Plotësoje fjalinë:**

Të gjitha vendet në Amerikën e Veriut gjenden në \_\_\_\_\_ nga ekuatori dhe \_\_\_\_\_ nga Grinuiçi. (anët e botës)

2 pikë

**22. Ceki tri shtete në derdhjen e lumit Laplata në Amerikën e Jugut:**

A. \_\_\_\_\_

B. \_\_\_\_\_

C. \_\_\_\_\_

3 pikë

**23. Nga nocionet e dhëna gjeografike me shpjegime të bashkëngjiten përkatëset duke i shënuar mbi vija:**

**1. Atllasi, 2. Sahara, 3. Madagaskar, 4. Ruvenzori 5. Kalahari, 6. Kilimanxharo, 7. Kongo. 8. Zambezi**

A. Ishulli më i madh i Afrikës është \_\_\_\_\_

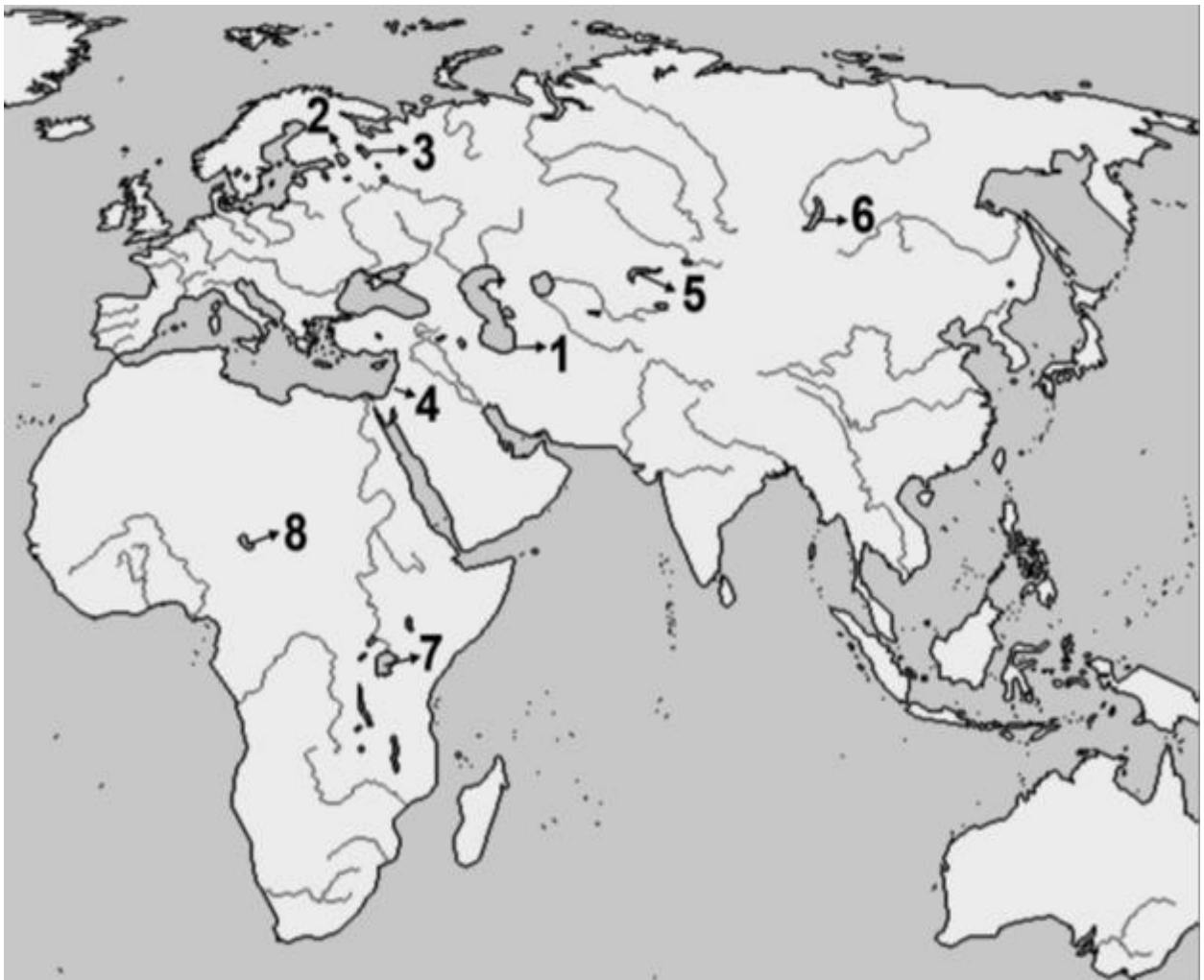
B. Shtrihet nga Oqeani Atlantik deri te Deti i Kuq \_\_\_\_\_

C. Kurora malore e Afrikës është \_\_\_\_\_

D. Ujëvara e Viktorisë gjendet në lumin \_\_\_\_\_

4 pikë

24. Shikoje hartën:



A. Liqeni më i thellë në hartë është shënuar me numrin \_\_\_\_\_ kurse emri i tij është \_\_\_\_\_.

B. Me sipërfaqe liqeni më i madh në hartë është shënuar me numrin \_\_\_\_\_ kurse emri i tij është \_\_\_\_\_.

C. Liqeni i cili gjendet në depresionin më të thellë në hartë është shënuar me numrin \_\_\_\_\_ kurse emri i tij është \_\_\_\_\_.

6 pikë

25. Shënoji tri nga pesë liqenet e mëdha në Amerikën e Veriut në kufirin e SHBA-ve dhe Kanadasë.



- A. \_\_\_\_\_  
B. \_\_\_\_\_  
C. \_\_\_\_\_

3 pikë	
--------	--

26. Plotësoje fjalinë:

Lumi Zeta krijon rrafshin e gjerë aluvial dhe atë në rrjedhën e epërme nëpërmjet

\_\_\_\_\_ dhe në rrjedhën e poshtme nëpërmjet  
\_\_\_\_\_.

2 pikë	
--------	--

27. Në Malin e Zi ekzistojnë tri vija hekurudhore, me një gjatësi të përgjithshme 250 km. Ato janë:

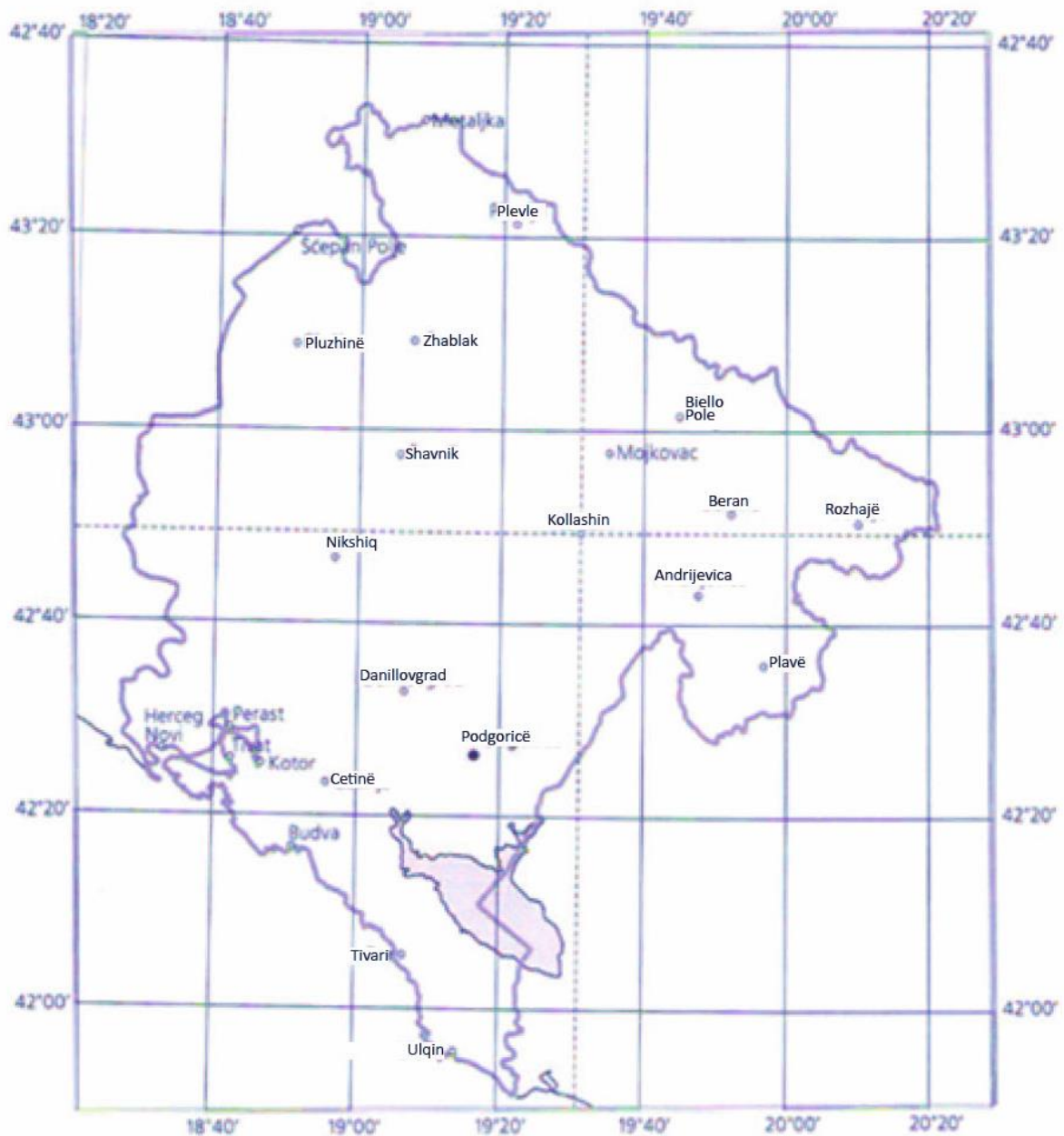
- A. \_\_\_\_\_  
B. \_\_\_\_\_  
C. \_\_\_\_\_

3 pikë	
--------	--



28. Në hartën konturë të Malit të Zi janë vizatuar meridianët dhe paralelet në çdo 20'.

Duke u orientuar sipas atyre vijave cakto:



A. Gjerësinë gjeografike të Kollashinit \_\_\_\_\_

B. Gjatësinë gjeografike të Kollashinit \_\_\_\_\_.

2 pikë	
--------	--

29. Cilës komunë i përket territori i shënuar në hartë? \_\_\_\_\_



Ceki dy komuna fqinje të komunës së shënuar në hartë.

A \_\_\_\_\_

B. \_\_\_\_\_

2 pikë

30. Nga cilat gjire përbëhet gjiri i Bokës së Kotorit?



- A. \_\_\_\_\_
- B. \_\_\_\_\_
- C. \_\_\_\_\_
- D. \_\_\_\_\_

4 pikë	
--------	--

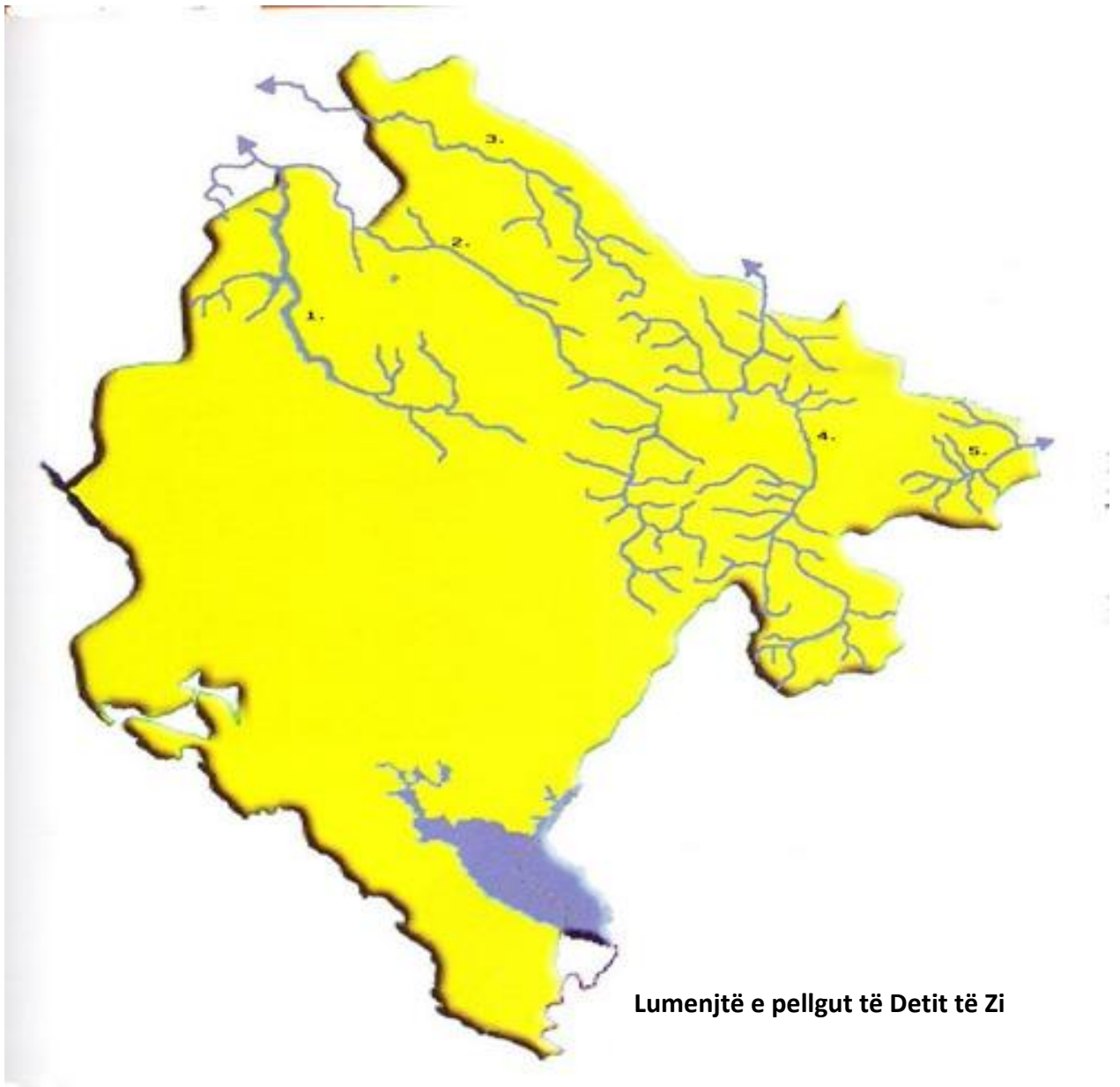
31. Shikoje figurën dhe përgjigju:



- A. Shkruaje emrin e liqenit nga figura \_\_\_\_\_
- B. Në cilën mal gjendet \_\_\_\_\_
- C. Cilit lloj të krijimit i përket ky liqe \_\_\_\_\_

3 pikë	
--------	--

32. Ceki lumenjtë e pellgut të Detit të Zi:



Lumenjtë e pellgut të Detit të Zi

1. \_\_\_\_\_
2. \_\_\_\_\_
3. \_\_\_\_\_
4. \_\_\_\_\_
5. \_\_\_\_\_

5 pikë	
--------	--













**E PLOTËSON KOMISIONI PËR VLERËSIM**

Numri i përgjithshëm i pikëve të fituara në test: \_\_\_\_\_

Nota: \_\_\_\_\_

**KOMISIONI:**

\_\_\_\_\_

\_\_\_\_\_

**VLERËSUESI KRYESOR:** \_\_\_\_\_

Data \_\_\_\_\_ 2015