



GEOGRAFIJA

EKSTERNA PROVJERA ZNANJA UČENIKA
NA KRAJU III CIKLUSA OSNOVNE ŠKOLE

MAJ, ŠKOLSKE 2017/2018. GODINE

UPUTSTVO

Test iz geografije traje 70 minuta.

Maksimalan broj bodova je **100**. Netačno riješen ili neurađen zadatak **ne donosi** negativne poene.

Na ispitu nije dozvoljeno sljedeće ponašanje:

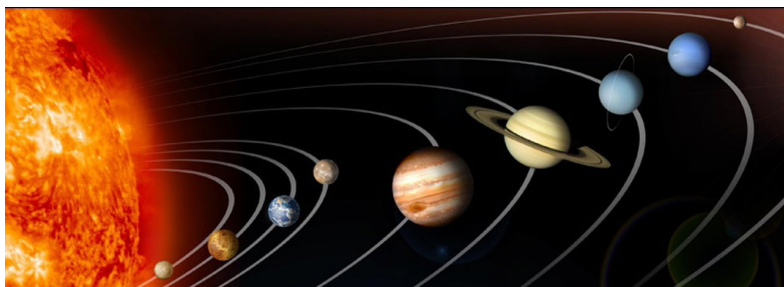
- lažno predstavljanje,
- otvaranje ispitnih zadataka prije dozvoljenog vremena,
- ometanje drugih učenika,
- korišćenje nedozvoljenog pribora,
- unošenje jela na ispit (dozvoljena je samo voda),
- nepoštovanje znaka za završetak ispita.

Dozvoljen pribor je: grafitna olovka i gumica, hemijska olovka i korektor. **Učenicov rad mora biti napisan hemijskom olovkom.**

ŠIFRA UČENIKA

U sljedećim zadacima zaokružite slovo ispred tačnog odgovora.

1. Zaokruži petu planetu po udaljenosti od Sunca.



- A. Jupiter
- B. Mars
- C. Satur
- D. Uran

1 bod

2. Kako se naziva paralela od 23,5° S. G. Š?

- A. Sjeverni polarnik
- B. Sjeverni povratnik
- C. Južni polarnik
- D. Južni povratnik

1 bod

3. Koji vjetrovi su od izuzetnog značaja za Indijsku poljoprivredu.

- A. Zapadni
- B. Orkani
- C. Pasati
- D. Monsuni

1 bod

4. Ispod koje crnogorske planine izvire Tara?

- A. Bjelasice
- B. Komova
- C. Sinjajevine
- D. Visitora

1 bod

Pažljivo pročitajte navedene tvrdnje i odredite da li su tačne (T) ili nijesu (N). Zaokruži (T) ako misliš da je tvrdnja tačna, odnosno (N) ako misliš da je tvrdnja netačana.

5. Odredi se prema tvrdnjama.

- | | | |
|--|---|---|
| A. Demografija proučava stanovništvo. | T | N |
| B. Emigracija je iseljavanje. | T | N |
| C. Glavni demografski problem je migriranje stanovništva iz sela u grad. | T | N |
| D. Žene u prosjeku kraće žive od muškaraca. | T | N |

4 boda

6. Odredi se prema datim tvrdnjama.

- | | | |
|--|---|---|
| A. Evropska unija (EU) osnovana je 1992. godine. | T | N |
| B. zastava Evropske unije je plave boje sa 15 zvjezdica. | T | N |
| C. Euro je zajednički novac u većini zemalja EU. | T | N |
| D. temelj na kome počiva EU je jedinstveno tržište. | T | N |

4 boda

7. Odredi se prema sljedećim tvrdnjama:

- | | | |
|---|---|---|
| A. Afrički kontinent je većinom sagrađen od mladih stijena. | T | N |
| B. Visoka Afrika zauzima istočni i južni dio kontinenta. | T | N |
| C. Rijeke Afrike pripadaju slivu Atlantskog i Tihog okeana. | T | N |
| D. Džungle su teško prohodne šume koje rastu u ekvatorijalnom pojasu. | T | N |

4 boda

8. Odgovori sa T ili N u odnosu na sljedeće tvrdnje.

- | | | |
|---|---|---|
| A. Dnevno se u Jadranskom moru javlja jedna plima i jedna osjeka. | T | N |
| B. Pored naše obale teče hladna morska struja. | T | N |
| C. Providnost vode Jadranskog mora smanjuje se od juga prema sjeveru. | T | N |
| D. Salinitet mora zavisi od temperature. | T | N |

4 boda

U sljedećim zadacima svakom pojmu u lijevoj koloni možete pridružiti samo jedan pojam iz desne kolone. Na linijama treba uz broj koji označava pojam u lijevoj koloni upisati slovo tačnog odgovora iz desne kolone. Pazite, jedan odgovor na desnoj strani je višak!

9. Poveži.

- | | |
|------------|---|
| 1. Tombolo | A. Uski duboki morski zaliv strmih strana |
| 2. Žalo | B. Koralno ostrvo |
| 3. fjord | C. Šljunkovita, pjeskovita obala |
| 4. Atol | D. Oblik riječnoga ušća |
| | E. Ostrvo spojeno s kopnom |

1. _____
2. _____
3. _____
4. _____

4 boda	
--------	--

10. Poveži rijeke sa slivovima.

- | | |
|-----------|--------------------------|
| 1. Rona | A. sliv Crnog mora |
| 2. Dunav | B. sliv Sredozemnog mora |
| 3. Garona | C. sliv Atlanskog okeana |
| 4. Po | D. sliv Jadranskog mora |
| | E. sliv Tihog okeana |

1. _____
2. _____
3. _____
4. _____

4 boda	
--------	--

11. Povežite karakteristike sa njihovim kontinentima.

- | | |
|--------------------------|---------------|
| 1. Kontinent torbara | A. Afrika |
| 2. Najveći kontinent | B. Amerika |
| 3. Pretežno nizijski | C. Australija |
| 4. Sa najvećom pustinjom | D. Azija |
| | E. Evropa |

1. _____
2. _____
3. _____
4. _____

4 boda	
--------	--

12. Poveži gradove i manifestacije vezane za njih:

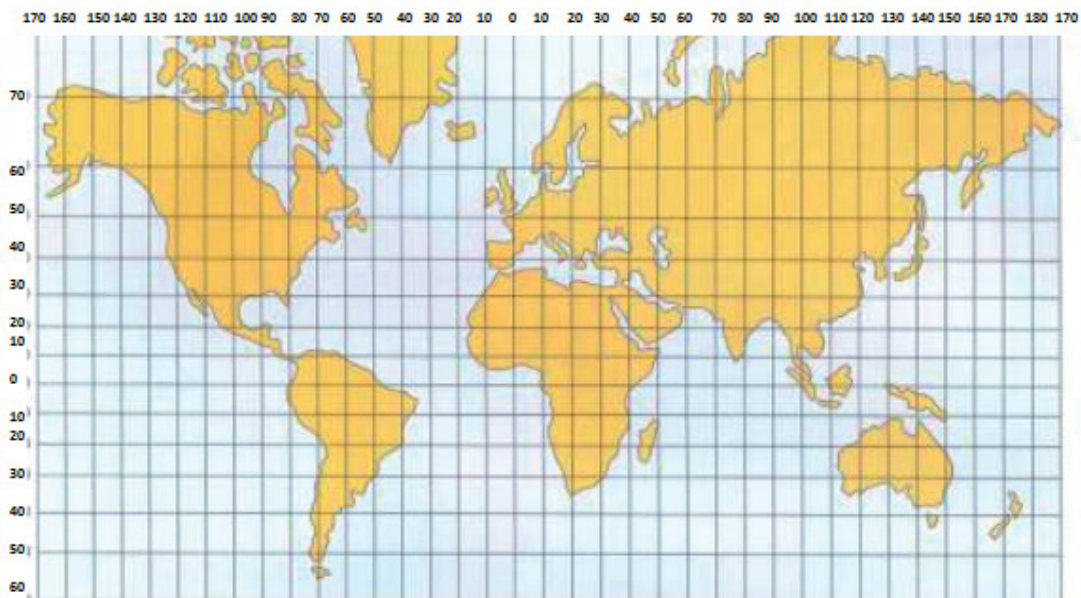
- | | |
|-------------------|----------------|
| 1. Zlatna pahulja | A. Budva |
| 2. Grad teatar | B. Podgorica |
| 3. Praznik mimoze | C. Rožaje |
| 4. Dani kamelije | D. Herceg Novi |
| | E. Kotor |

1. _____
2. _____
3. _____
4. _____

4 boda	
--------	--

13. Na karti ispod ubilježi krugićem (meridijani i paralele na karti su udaljeni jedni od drugih 10°):

- A. mjesto gdje se sjeku ekvator i grinički meridijan.
B. Mjesto na 30o J. G. Š i 120° I. G. D
C. Mjesto na 50o S. G. Š i 60° Z. G. D



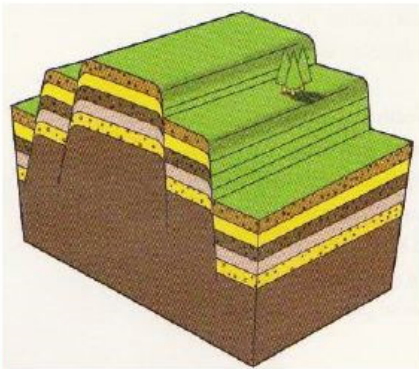
3 boda	
--------	--

14. Na linijama ispred geografske širine slovima (A,B,C,D) poredaj po brzini rotacije tačke na površini Zemlje (A je najveća brzina):

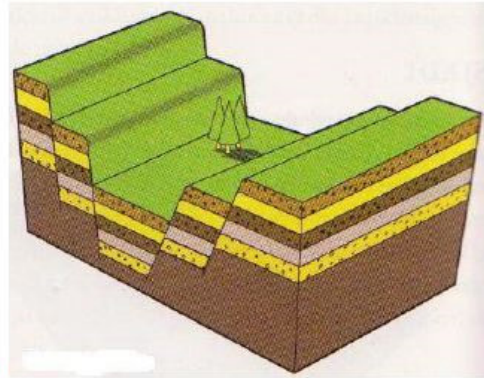
___ 45°10' s.g.š. ___ 05°10' s.g.š. ___ 25°10' s.g.š. ___ 85°10' s.g.š.

3 boda

15. Na crte ispot priloga napiši naziv rasjeda.



2)



2 boda

16. Na osnovu priložene slike odgovori na pitanja dopunjavanjem.



Prikazani oblik reljefa nastao je radom _____. Erozijska erozija kojom je nastao prikazani oblik reljefa naziva se _____.

2 boda

17. Navedi tri sloja (sfere) vazdušnog omotača.

A. _____

B. _____

C. _____

3 boda

18. Koje su vreste kretanja morske vode?

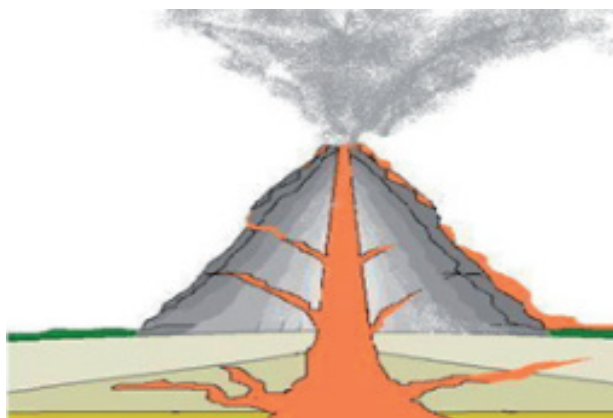
A. _____

B. _____

C. _____

3 boda

19. Na slici je presjek vulkana.Navedi tri dijela vulkana.



A. _____

B. _____

C. _____

3 boda

20. Nabroj tri osnovne vrste oblaka.

A. _____

B. _____

C. _____

3 boda

21. Odgovori:

A. Stijene nastale očvršćavanjem lave nazivaju se _____.

B. Nastale taloženjem nazivaju se _____.

C. Nastale preobražajem drugih stijena _____.

2 boda

22. Dopuni rečenice

Španci pripadaju _____ grupi naroda. Osim španaca, na sjeveroistoku zemlje žive _____, a oko Baskijskog zaliva žive _____, koji su potomci starosjedilaca Pirinejskog poluostrva.

3 boda

23.



A. Koja je Afrička regija prikazana na karti? _____.

B. Stanovništvo regije sa karte su većinom _____.

C. Koja klima preovladava u regiji sa karte? _____.

D. Najznačajniji privredni resurs regije sa karte je _____.

4 boda

24. Koje dvije države Južne Amerike ne izlaze na more?



1. _____
2. _____

2 boda

25.



A. Navedi tri države Australije: _____

B. Nabroj dvije životinjske vrste po kojima je prepoznatljiva Australija:

C. Navedi drvo karakteristično za Australiju: _____

D. Ko su starosjedioci Australije? _____

4 boda

26. Iz kojih se zaliva sastoji Bokotorski zaliv?



- A. _____
- B. _____
- C. _____
- D. _____

4 boda

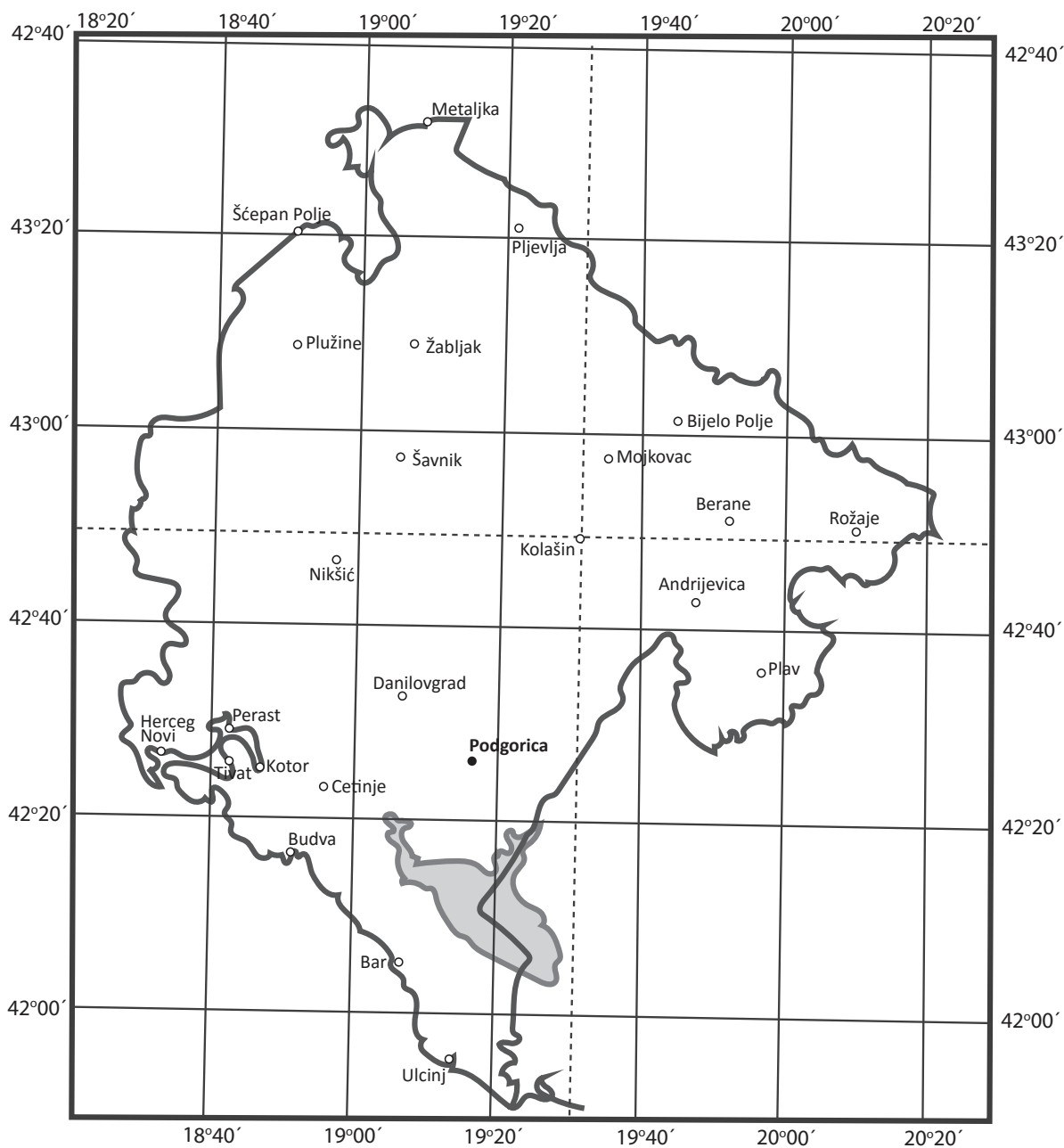
27. Dopuni rečenicu:

Rijeka Zeta pravi široku aluvijalnu ravan i to u gornjem toku kroz

_____ i u donjem toku kroz _____.

2 boda

- 28.** Na konturnoj karti Crne Gore ucrtani su meridijani i paralele na svakih 20'. Orjentišući se prema tim linijama odredi.



- A. Geografsku širinu Kolašina _____.
- B. Geografsku dužinu Kolašina _____.
- C. Geografsku širinu Rožaja _____.
- D. Geografsku dužinu Rožaja _____.

4 boda

29. Navedi rijeke Crnomorskog sliva:



1. _____
2. _____
3. _____
4. _____
5. _____

5 bodova

30. Na slici je prikazano jedno naše ledničko jezero.



- A. Koje je ovo jezero? _____
- B. Kakvo je ovo jezero po postanku? _____
- C. Na kojoj se planini nalazi? _____

3 boda

31. Navedi dva nacionalna parka u Crnoj Gori, koja pored prirodno-geografskog imaju i kulturno-istorijski značaj.

A. _____

B. _____

2 boda

32.



A. Na slici je prikazano skijalište u blizini Nikšića, koji je njegov naziv _____.

B. Savin kuk je skijalište na planini _____.

C. Jezerine su skijalište na planini _____.

3 boda

POPUNJAVA KOMISIJA ZA OCJENJIVANJE

Ukupan broj osvojenih bodova na testu: _____

Ocjena: _____

KOMISIJA:

GLAVNI OCJENJIVAČ:

Dana _____ 2018. godine