



qendra e provimeve



# GJEOGRAFI

KONTROLLIMI EKSTERN I DIJES SË NXËNËSVE  
NË FUND TË CIKLIT TË TRETË TË SHKOLLËS FILLORE

QERSHOR, VITIT MËSIMOR 2017/2018

## UDHËZIM

Testi nga gjeografia zgjat **70 minuta**.

Numri maksimal i pikëve është **100**. Detyra e cila nuk është zgjidhur saktë **nuk sjell** pikë negative.

Në provim nuk lejohet:

- prezantimi i rrejshëm,
- shikimi i detyrave të provimit para se të jap leje mësimdhënësi kujdestar,
- pengimi i nxënësve tjerë,
- përdorimi i mjeteve të palejuara,
- futja e ushqimit në provim (lejohet vetëm uji),
- mosrespektimi i shenjës për përfundimin e provimit.


**Mjetet e lejuara janë:** lapsi i thjeshtë dhe goma, lapsi kimik dhe korrektori.  
Punimi i nxënësit duhet të shkruhet me laps kimik.

**SHIFRA E NXËNËSIT**



Në detyrat në vazhdim rrethoni shkronjën para përgjigjes së saktë.

1. Rretho planetin e pestë për nga largësia nga Dielli.



- A. Jupiteri
- B. Marsi
- C. Saturni
- D. Urani

1 pikë

2. Si quhet paralelja prej  $23,5^\circ$  GJ. GJ. V?

- A. Rrethi Polar i Veriut
- B. Tropiku Verior
- C. Rrethi Polar i Jugut
- D. Tropiku Jugor

1 pikë

3. Cilat erëra janë të një rëndësie të veçantë për bujqësinë e Indisë?

- A. Perëndimore
- B. Stuhitë
- C. Pasatet
- D. Monsunet

1 pikë

4. Nën cilën bjeshkë të Malit të Zi buron Tara?

- A. Bjellasicë
- B. Komovi
- C. Sinjajevinë
- D. Visitor

1 pikë

**Lexoni me kujdes pohimet në vazhdim dhe përcaktonju ndaj tyre nëse janë të sakta (S) ose të pasakta (P). Rretho (S) nëse mendon se pohimi është i saktë, përkatësisht (P) nëse mendon se pohimi është i pasaktë.**

**5. Përcaktoju ndaj pohimeve.**

- |   |   |   |
|---|---|---|
| A. Demografia studion popullsinë  | S | P |
| B. Emigrimi është zhvendosje  | S | P |
| C. Problemi kryesor demografik është migrimi i popullsisë nga fshati në qytet | S | P |
| D. Femrat mesatarisht jetojnë më pak se meshkujt                              | S | P |

4 pikë

**6. Përcaktoju ndaj pohimeve.**

- |  |   |   |
|--|---|---|
| A. Bashkimi evropian (BE) është themeluar në vitin 1992        | S | P |
| B. Flamuri i Bashkimit evropian është i kaltër me 15 yje       | S | P |
| C. Euro është monedha e përbashkët në shumicën e vendeve të BE | S | P |
| D. Themeli mbi të cilin mbështetet BE është tregu i përbashkët | S | P |

4 pikë

**7. Përcaktoju ndaj pohimeve në vazhdim:**

- |  |   |   |
|--|---|---|
| A. Kontinenti i Afrikës në pjesën më të madhe është i ndërtuar prej shkëmbinjve të rinj  | S | P |
| B. Afrika e Lartë zë pjesën lindore dhe jugore të kontinentit                            | S | P |
| C. Lumenjtë e Afrikës i përkasin vardarit të Oqeanit Atlantik dhe të Qetë                | S | P |
| D. Xhunglat janë pyje të cilat kalohen vështirë dhe të cilat rriten në rripin ekuatorial | S | P |

4 pikë

**8. Përgjigju me S ose P në raport me pohimet në vazhdimi.**

- |   |   |   |
|---|---|---|
| A. Gjatë ditës në Detin Adriatik paraqitet një baticë dhe një zbaticë       | S | P |
| B. Pranë bregdetit tonë rrjedh një rrymë e ftohtë detare                    | S | P |
| C. Tejudukshmëria e ujit të Detit Adriatik zvogëlohet nga jugu drejt veriut | S | P |
| D. Njelmësia e detit varet nga temperatura                                  | S | P |

4 pikë

Në detyrat në vazhdim çdo kuptimi në kolonën e majtë mund t'i bashkoni vetëm një nocion nga kolona e djathtë. Është e domosdoshme që mbi vija pranë numrit që tregon kuptimin në kolonën e majtë të shkruani shkronjën e përgjigjes së saktë nga kolona e djathtë. Keni kujdes, një përgjigje në anën e djathtë është e tepërt!

**9. Bashko:**

1. Tombolo
2. plazhi
3. fjordi
4. atoli

- A. Gji i ngushtë dhe i thellë i detit me anë të rrëpira
- B. Ishulli koral
- C. Bregu i detit me rërë dhe me zall
- D. Forma e grykës së lumit
- E. Ishulli i bashkuar me tokën

1. \_\_\_\_\_
2. \_\_\_\_\_
3. \_\_\_\_\_
4. \_\_\_\_\_

4 pikë

**10. Bashkoji lumenjtë me vardaret.**

1. Rona
2. Danubi
3. Garona
4. Po

- A. vardari i Detit të Zi
- B. vardari i Detit të Mesdheut
- C. vardari i Oqeanit Atlantik
- D. vardari Detit Adriatik
- E. vardari i Oqeanit Paqësor

1. \_\_\_\_\_
2. \_\_\_\_\_
3. \_\_\_\_\_
4. \_\_\_\_\_

4 pikë

**11. Bashkoni karakteristikat me kontinentet e tyre.**

1. Kontinenti i strajcorëve
2. Kontinenti më i madh
3. Kryesisht ultësirë
4. Me shkretëtirën më të madhe

- A. Afrika
- B. Amerika
- C. Australia
- D. Azia
- E. Evropa

1. \_\_\_\_\_
2. \_\_\_\_\_
3. \_\_\_\_\_
4. \_\_\_\_\_

4 pikë

**12. Bashkimi qytetet dhe manifestimet që lidhen me to:**

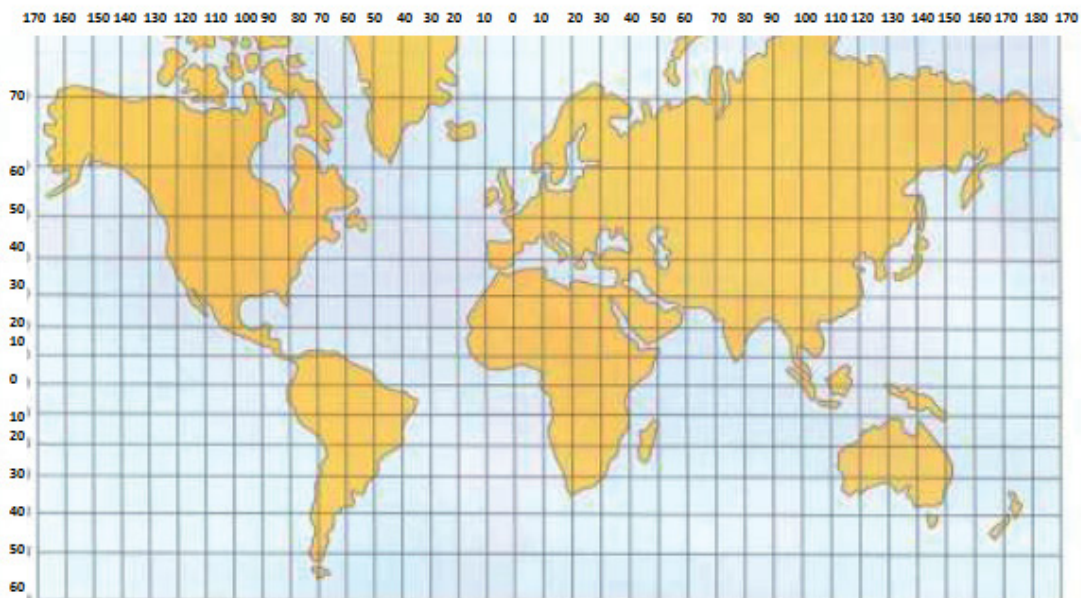
- |                     |                |
|---------------------|----------------|
| 1. Fjolla e artë    | A. Budva       |
| 2. Qyteti teatër    | B. Podgorica   |
| 3. Fetsa e mimozës  | C. Rozhaja     |
| 4. Ditët e kamelies | D. Herceg Novi |
|                     | E. Kotorri     |

1. \_\_\_\_\_
2. \_\_\_\_\_
3. \_\_\_\_\_
4. \_\_\_\_\_

4 pikë	
--------	--

**13. Në hartë të mëposhtme shëno me rreth të vogël (meridianët dhe paralelet në hartë janë larg njëri prej tjetrit  $10^\circ$ ):**

- A. Vendi ku priten ekuatori dhe meridiani i Grinuiçit
- B. Vendi në  $30^\circ$  GJ. GJ. J. dhe  $120^\circ$  TH. GJ. L.
- C. Vendi në  $50^\circ$  GJ. GJ. V. dhe  $60^\circ$  TH.GJ.P.



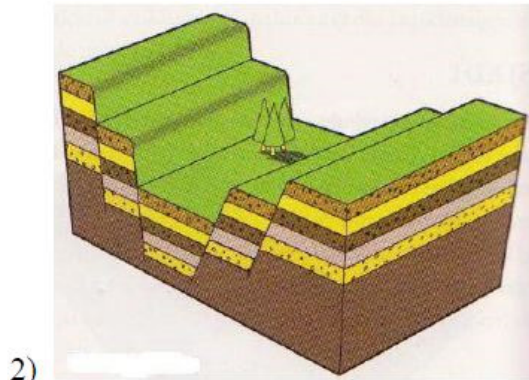
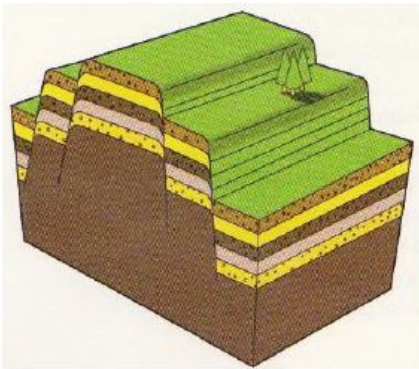
3 pikë	
--------	--

**14.** Mbi vija para gjerësisë gjeografike me shkronja (A,B,C,D) renditi sipas shpejtësisë rotacionet e pikës në sipërfaqen e Tokës (A është shpejtësia më e madhe):

\_\_\_  $45^{\circ}10'$  gj.gj.v. \_\_\_  $05^{\circ}10'$  gj.gj.v. \_\_\_  $25^{\circ}10'$  gj.gj.v. \_\_\_  $85^{\circ}10'$  gj.gj.v.

3 pikë

**15.** Mbi vija nën figurën e dhënë shkruani emërtimin e çarjes së tokës.



2 pikë

**16.** Në bazë të figurës së dhënë përgjigju në pyetje duke plotësuar.



Forma e paraqitur e relievit është formuar me punën \_\_\_\_\_.

Erozioni me të cilin është krijuar forma e relievit të paraqitur quhet \_\_\_\_\_.

2 pikë

**17.** Shkruaji tri shtresa (sfera) të mbështjellësit ajror.

A. \_\_\_\_\_

B. \_\_\_\_\_

C. \_\_\_\_\_

3 pikë

**18.** Cilat janë llojet e lëvizjeve të ujit të detit?

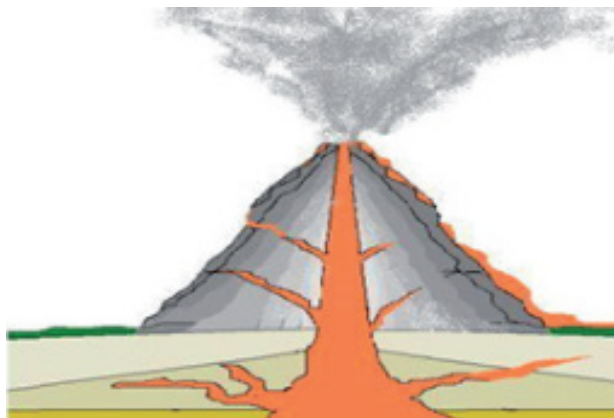
A. \_\_\_\_\_

B. \_\_\_\_\_

C. \_\_\_\_\_

3 pikë

**19.** Në figurë është prerja e vullkanit. Shënoji tri pjesë të vullkanit.



A. \_\_\_\_\_

B. \_\_\_\_\_

C. \_\_\_\_\_

3 pikë

**20.** Numëroji tri lloje themelore të reve.

A. \_\_\_\_\_

B. \_\_\_\_\_

C. \_\_\_\_\_

3 pikë



**21. Përgjigju:**

A. Shkëmbinjtë e krijuar me forcimin e lavës quhen \_\_\_\_\_.

B. Të krijuar me fundërrim quhen \_\_\_\_\_.

C. Të krijuar me transformim të shkëmbinjve tjerë \_\_\_\_\_.

2 pikë

**22. Plotësoji fjalitë.**

Spanjollët i përkasin grupit të popullit \_\_\_\_\_. Përveç spanjollëve në verilindje të vendit jetojnë edhe \_\_\_\_\_, kurse rreth ishullit Bask jetojnë \_\_\_\_\_, të cilët janë pasardhës të popullit autokton të Gadishullit Pirinej.

3 pikë

**23.**



A. Cili rajon i Afrikës është paraqitur në hartë? \_\_\_\_\_

B. Pjesa dërmuese e popullsisë së rajonit nga harta janë \_\_\_\_\_.

C. Cila klimë mbizotëron në rajonin nga harta? \_\_\_\_\_

D. Resursi më i rëndësishëm ekonomik i rajonit nga harta është \_\_\_\_\_.

4 pikë

24. Cilat dy shtete të Amerikës së Jugut nuk kanë dalje në det?



1. \_\_\_\_\_
2. \_\_\_\_\_

2 pikë

25.



A. Shënoji tri shtete të Australisë: \_\_\_\_\_,

\_\_\_\_\_.

B. Numëroji dy lloje të kafshëve për të cilat është e njohur Australia:

\_\_\_\_\_.

C. Shënoje drurin që është karakteristik për Australinë \_\_\_\_\_.

D. Kush është populli autokton i Australisë? \_\_\_\_\_.

4 pikë

**26. Nga cilat gjire përbëhet gjiri i Bokës së Kotorrit?**



- A. \_\_\_\_\_
- B. \_\_\_\_\_
- C. \_\_\_\_\_
- D. \_\_\_\_\_

4 pikë

**27. Plotëso fjalinë:**

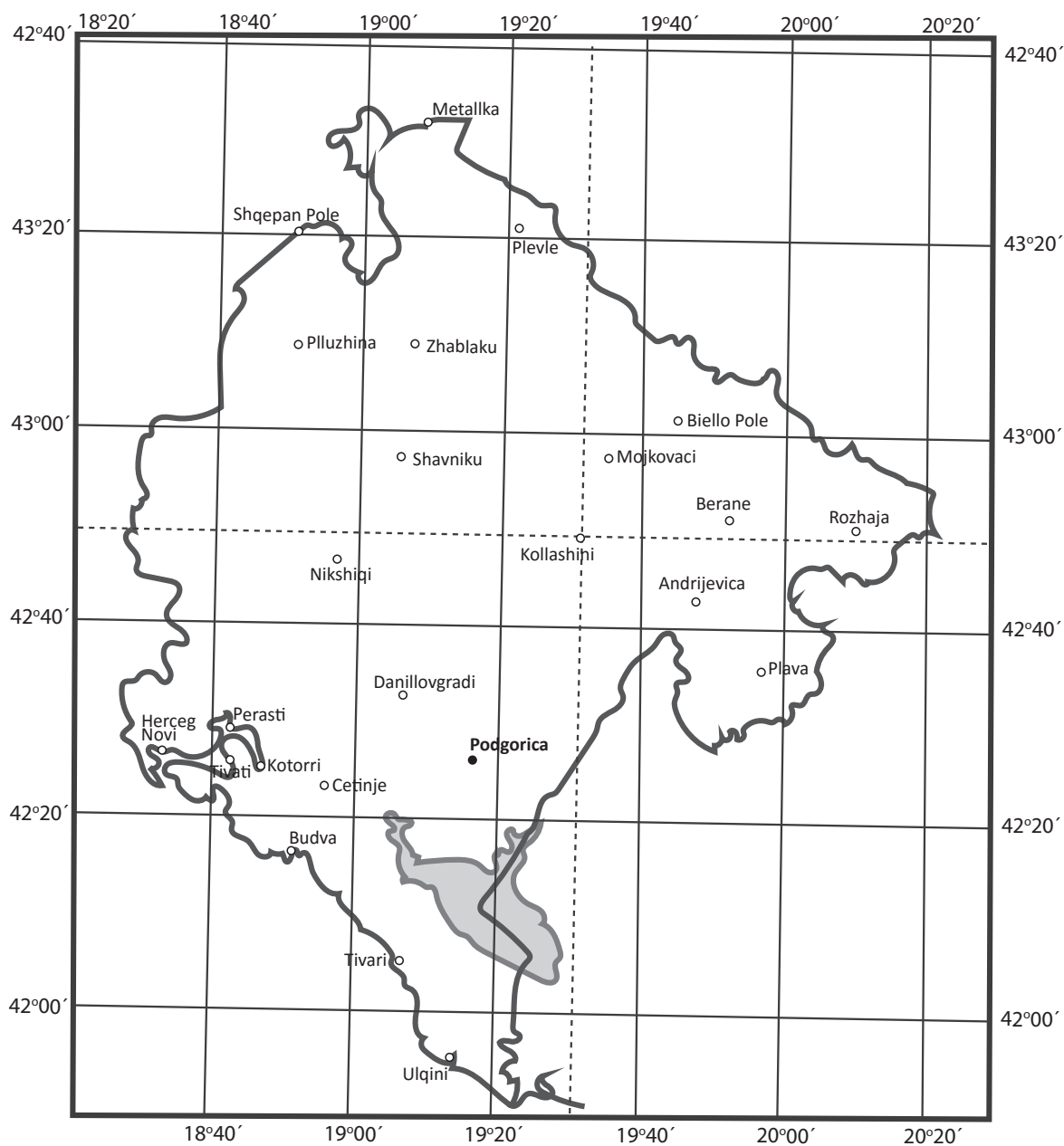
Lumi Zeta bën një rrafsh të gjerë aluvial dhe atë në rrjedhën e epërme përmes

\_\_\_\_\_ dhe në rrjedhën e poshtme nëpërmjet

\_\_\_\_\_.

2 pikë

**28.** Në hartën tipike të Malit të Zi janë vizatuar meridianët dhe paralelet në çdo 20'. Duke u orientuar sipas atyre linjave cakto:



- A. Gjerësinë gjeografike të Kollashinit \_\_\_\_\_.
- B. Gjatësinë gjeografike të Kollashinit \_\_\_\_\_.
- C. Gjerësinë gjeografike të Rozhajës \_\_\_\_\_.
- D. Gjatësinë gjeografike të Rozhajës \_\_\_\_\_.

4 pikë

29. Shënoji lumenjtë e pellgut të Detit të Zi:



1. \_\_\_\_\_
2. \_\_\_\_\_
3. \_\_\_\_\_
4. \_\_\_\_\_
5. \_\_\_\_\_

5 pikë

30. Në figurë është paraqitur një liqen yni glacial.



- A. Cili është ky liqen? \_\_\_\_\_
- B. Çfarë është ky liqen për nga formimi? \_\_\_\_\_
- C. Në cilën bjeshkë ndodhet? \_\_\_\_\_

3 pikë

**31.** Ceki dy parqe kombëtare në Mal të Z, të cilët përveç rëndësisë natyrore-gjeografike kanë edhe një rëndësi kulturore dhe historike.

A. \_\_\_\_\_

B. \_\_\_\_\_

2 pikë

**32.**



A. Në figurë është paraqitur vendi i skijimit afër Nikshiqit, si quhet ky vend \_\_\_\_\_.

B. Savin Kuk është vendi i skijimit në bjeshkën \_\_\_\_\_.

C. Jezerine është vendi i skijimit në bjeshkën \_\_\_\_\_.

3 pikë



**E PLOTËSON KOMISIONI PËR VLERËSIM**

Numri i përgjithshëm i pikëve të fituara në test: \_\_\_\_\_

Nota: \_\_\_\_\_

**KOMISIONI:**

\_\_\_\_\_

\_\_\_\_\_

**VLERËSUESI KRYESOR:** \_\_\_\_\_

Data \_\_\_\_\_ 2018