



GJEOGRAFI

KONTROLLIMI EKSTERN I DIJES SË NXËNËSVE
NË FUND TË CIKLIT TË TRETË TË SHKOLLËS FILLORE

MAJ, VITIT MËSIMOR 2016/2017

UDHËZIM

Testi nga gjeografia zgjat **70 minuta**.

Numri maksimal i pikëve është **100**. Detyra e cila nuk është zgjidhur saktë **nuk sjell** pikë negative.

Në provim nuk lejohet:

- prezantimi i rrejshëm,
- shikimi i detyrave të provimit para se të jap leje mësimdhënësi kujdestar,
- pengimi i nxënësve tjerë,
- përdorimi i mjeteve të palejuara,
- futja e ushqimit në provim (lejohet vetëm uji),
- mosrespektimi i shenjës për përfundimin e provimit.

Mjetet e lejuara janë: lapsi i thjeshtë dhe goma, lapsi kimik dhe korrektori.
Punimi i nxënësit duhet të shkruhet me laps kimik.

SHIFRA E NXËNËSIT

Në detyrat në vazhdim rrethoni shkronjën para përgjigjes së saktë.

1. Rrethi i madh i imagjinuar i cili gjendet në gjysmën e rrugës në mes të poleve quhet:

- A. Glob
- B. Meridiani i Grinuiçit
- C. Ekuator
- D. Poli i jugut

1 pikë

2. Me pjesën më të madhe të saj Evropa gjendet në:

- A. zonën e mesme jugore
- B. zonën e zjarrtë
- C. zonën e mesme veriore
- D. zonën e akullt veriore

1 pikë

3. Popullata autoktone e Kanadasë quhet:

- A. Aleutët
- B. Havajasit
- C. Inkët
- D. Inuitët

1 pikë

4. Nga liqenet e Malit të Zi, kriptodepresiv, janë:

- A. Liqeni i Madh dhe i Vogël
- B. Liqeni i Shkodrës dhe i Shasit
- C. Liqeni i Zi dhe i Biogradit
- D. Liqeni Krupac dhe Sllano

1 pikë

Lexoji me kujdes pohimet në vazhdim dhe përcaktoju ndaj tyre nëse janë të sakta (S) ose të pasakta (P). Rretho (S) nëse mendon se pohimi është i saktë, përkatësisht (P) nëse mendon se pohimi është i pasaktë.

5. Përcaktoju ndaj pohimeve të dhëna.

- | | | |
|---|---|---|
| A. Dielli është yll | S | P |
| B. Satelitët janë trupa qiellor të cilët sillen rreth yjeve | S | P |
| C. Hëna është satelit natyror i tokës | S | P |

3 pikë

6. Përcaktoju ndaj pohimeve të dhëna.

- | | | |
|--|---|---|
| A. Mali i Zi gjendet në Evropën Qendrore | S | P |
| B. Azia ka më shumë banor se Evropa | S | P |
| C. Evropa me sipërfaqe është më e madhe se Australia | S | P |
| D. Evropa ka një bregdet mjaft të përthyer | S | P |

4 pikë

7. Përgjigju në pohimet e shtruara.

- | | | |
|--|---|---|
| A. Azia merr afro 1/3 e sipërfaqes së oqeanit botëror | S | P |
| B. Në Azi janë paraqitur letra, kalendari dhe rrota e parë | S | P |
| C. Azinë nga Amerika e ndan ngushtica e Gjibraltarit | S | P |
| D. Azinë e përplasin ujërat e dy oqeanëve | S | P |

4 pikë

8. Përcaktoju ndaj pohimeve të dhëna, në pyetje është ekonomia e Malit të Zi.

- | | | |
|---|---|---|
| A. Në Mal të Zi drithërat kultivohen në më pak se 1% të sipërfaqeve bujqësore | S | P |
| B. Rritja e gjedhëve është një degë e blegtorisë e cila është në rritje | S | P |
| C. Peshkimi në Mal të Zi është zhvilluar sipas mundësive | S | P |
| D. Mali i Zi bën pjesë në vendet pyjore të Evropës | S | P |

4 pikë

Në detyrat në vazhdim çdo kuptimi në kolonën e majtë mund t'i bashkoni vetëm një nocion nga kolona e djathtë. Është e domosdoshme që mbi vija pranë numrit që tregon kuptimin në kolonën e majtë të shkruani shkronjën e përgjigjes së saktë nga kolona e djathtë. Keni kujdes, një përgjigje në anën e djathtë është e tepërt!

9. Bashko.

- | | |
|----------------------|----------------------|
| 1. Pylli mesdhetar | A. Halorët |
| 2. Pylli gjetherënës | B. Ahu |
| 3. Tajga | C. Shkurret |
| 4. Tundra | D. Shelgu i shkurtër |
| | E. Bari i stepave |

1. _____
2. _____
3. _____
4. _____

4 pikë

10. Bashko shtetet me religjionin dominues.

- | | |
|------------|----------------|
| 1. Izraeli | A. Krishterimi |
| 2. Laosi | B. Judaizmi |
| 3. Kanada | C. Budizmi |
| 4. Tursqia | D. Islami |
| | E. Hinduizmi |

1. _____
2. _____
3. _____
4. _____

4 pikë

11. Janë dhënë parqet nacionale të Malit të Zi. Bashko parkun nacional me vendbanimin që i graviton.

- | | |
|----------------------|---------------|
| 1. Llovqeni | A. Virpazari |
| 2. Biogradska gora | B. Plava |
| 3. Liqeni i Shkodrës | C. Cetina |
| 4. Durmitori | D. Kollashini |
| 5. Bjeshkët e Nemuna | E. Nikshiqi |
| | F. Zhabjaku |

1. _____
2. _____
3. _____
4. _____
5. _____

5 pikë

12. Shëno emërtimet e kontinenteve që me sipërfaqen e tyre të plotë shtrihen në gjysmësferën verior të Tokës.

1. _____

2. _____

3. _____

3 pikë

13. Përkufizo nocionet.

1. Dunat janë: _____

2. Vorbulla është: _____

3. Shpella është: _____

3 pikë

14. Shëno katër liqene të Amerikës Veriore.

A. _____

B. _____

C. _____

D. _____

4 pikë

15. Shëno katër lumenj që rrjedhin përmes rajonit të Podgoricës.

A. _____

B. _____

C. _____

D. _____

4 pikë

16. Plotëso fjalinë.

Shpërngulja e popullatës quhet _____, derisa vendosja e popullatës quhet _____.

2 pikë

17. Plotëso fjalinë:

Në Tokë ekzistojnë dy zona polare _____ dhe _____.

2 pikë

18. Plotëso fjalinë:

Lumi Nil formohet me bashkimin _____,
dhe derdhet në _____.

2 pikë

19. Plotëso fjalitë.

A. Lumi më i gjatë në Mal të Zi është _____.

B. Lumi Moraça i përket derdhjes së _____.

C. Nga Liqeni i Plavës del lumi _____.

3 pikë

20. Plotëso fjalinë.

I vetmi kantier i anijeve në Mal të Zi ndodhet në _____, derisa
limani ynë më i madh është në _____.

2 pikë

21. Renditi oqeanet sipas madhësisë.

A. Oqeani Atlantik 1. _____

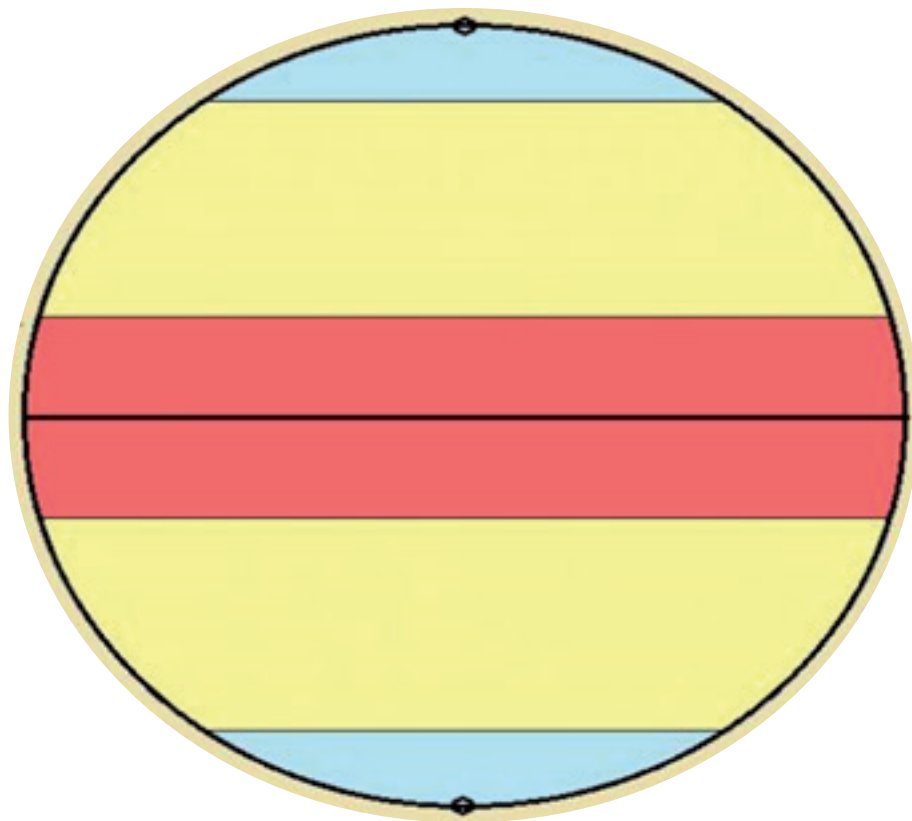
B. Oqeani Indian 2. _____

C. Oqeani i Ngrirë i Veriut 3. _____

D. Oqeani Paqësor 4. _____

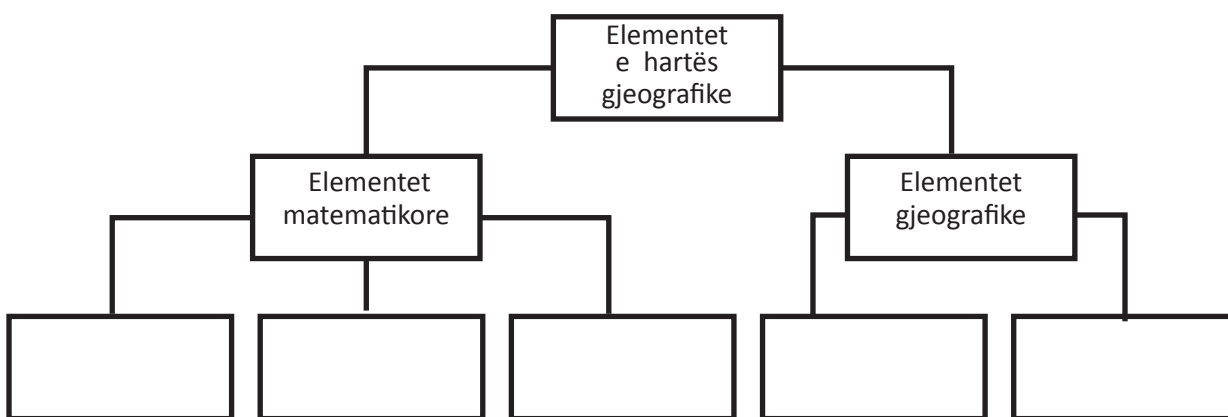
3 pikë

22. Në shtesën grafike shëno brezat e nxehtësisë në tokë.



5 pikë

23. Në katrorët bosh shkruani përgjigjet.



5 pikë

24. Në figurë me numra janë shënuar katër vende evropiane.
Mbi vija pranë numrave shënoni emrat e shteteve.



1. _____ 2. _____

3. _____ 4. _____

4 pikë	
--------	--

25. Në figurë janë shënuar tri ultësira të rëndësishme në Evropë. Mbi vija pranë numrave shkruani emrat e atyre ultësirave.



1. _____
2. _____
3. _____

3 pikë

26. Cilave shtete u përkasin fotografitë në vazhdim? Mbi vija pranë numrave shkruani emrat e shteteve.

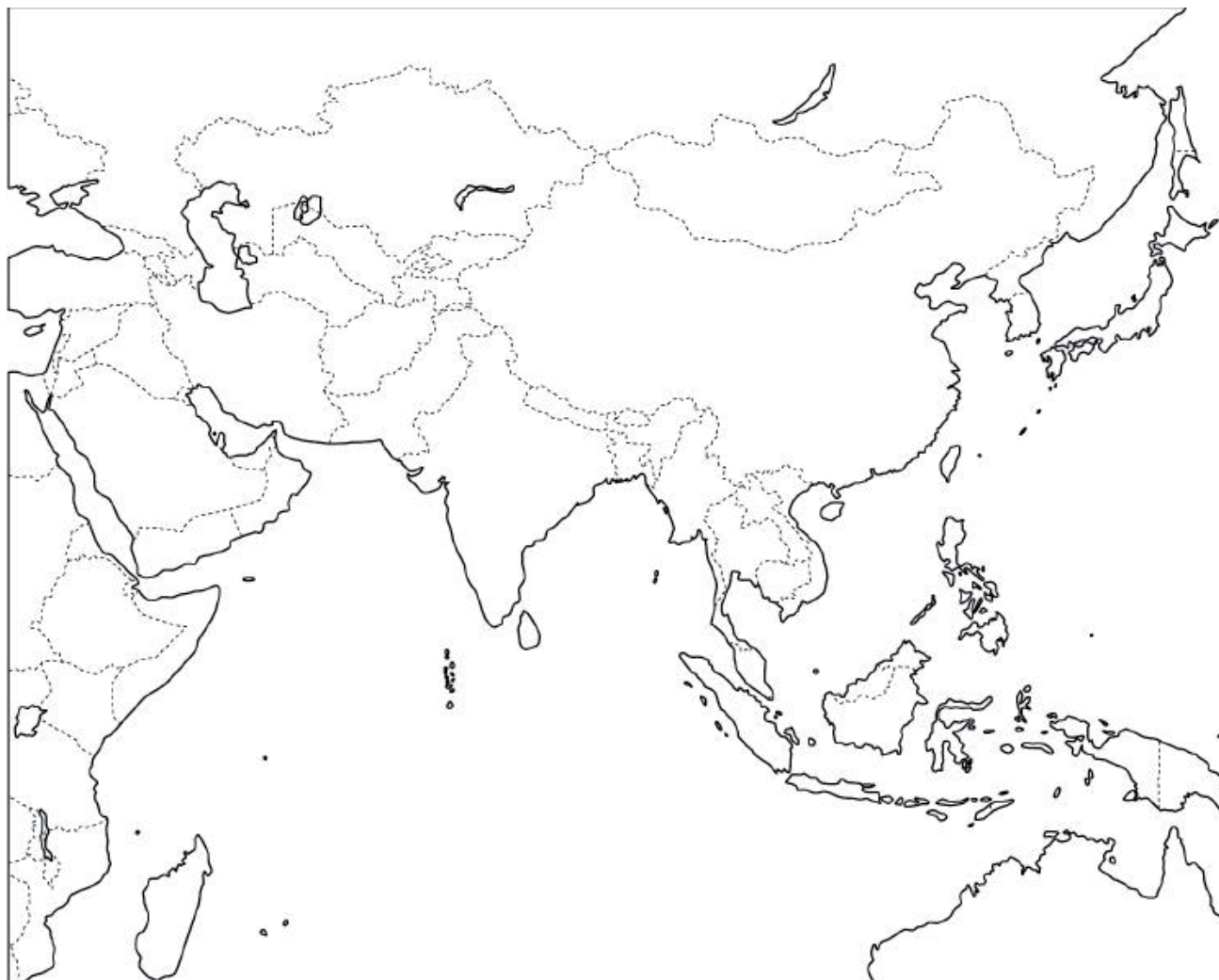


1. _____
2. _____
3. _____
4. _____

4 pikë

27. Në hartën memece të Azisë shëno me numra nocionet vijuese.

1. Mongolia
2. Tibeti
3. Ultësira e Tigris dhe Eufratit
4. Deti i Verdhë
5. Ishulli Sumatra
6. Afganistani



6 pikë	
--------	--

28. Në hartën memece të Malit të Zi në vendin përkatës shkruaj numrin e nocioneve të dhëna.


1. Mali Llovqen
2. Liqenet Krupac dhe Sllano
3. Liqeni i Pivës
4. Bjeshkët e Nemuna
5. Budva
6. Liqeni i Biogradit
7. Lumi Ibar
8. Komuna me territor më të vogël



7 pikë

29.

Në figurë është stema e Malit të Zi. Pranë numrave rendor shkruaj emrin e pjesës së stemës të shënuar me shigjetë me numër dhe çfarë simbolizon ajo pjesë.



1. _____
2. _____
3. _____
4. _____
5. _____
6. _____

6 pikë	
--------	--

E PLOTËSON KOMISIONI PËR VLERËSIM

Numri i përgjithshëm i pikëve të fituara në test: _____

Nota: _____

KOMISIONI:

VLERËSUESI KRYESOR: _____

Data _____ 2017