



GEOGRAFIJA

EKSTERNA PROVJERA ZNANJA UČENIKA
NA KRAJU III CIKLUSA OSNOVNE ŠKOLE

MAJ, ŠKOLSKE 2016/2017. GODINE

UPUTSTVO

Test iz geografije traje 70 minuta.

Maksimalan broj bodova je **100**. Netačno riješen ili neurađen zadatak **ne donosi** negativne poene.

Na ispitu nije dozvoljeno sljedeće ponašanje:

- lažno predstavljanje,
- otvaranje ispitnih zadataka prije dozvoljenog vremena,
- ometanje drugih učenika,
- korišćenje nedozvoljenog pribora,
- unošenje jela na ispit (dozvoljena je samo voda),
- nepoštovanje znaka za završetak ispita.

Dozvoljen pribor je: grafitna olovka i gumica, hemijska olovka i korektor. **Učenicov rad mora biti napisan hemijskom olovkom.**

ŠIFRA UČENIKA

U sljedećim zadacima zaokružite slovo ispred tačnog odgovora.

1. Zamišljeni veliki krug koji se nalazi na pola puta između polova naziva se:

- A. Globus
- B. Grinički meridijan
- C. Ekvator
- D. Južni pol

1 bod	
-------	--

2. Evropa se najvećim dijelom nalazi u:

- A. južnom umjerenom pojasu
- B. žarkom pojasu
- C. sjevernom umjerenom pojasu
- D. sjevernom ledenom pojasu

1 bod	
-------	--

3. Starosjedioci Kanade zovu se:

- A. Aleuti
- B. Havajćani
- C. Inke
- D. Inuiti

1 bod	
-------	--

4. Od crnogorskih jezera, kriptodepresije su:

- A. Malo i Veliko jezero
- B. Skadarsko i Šasko jezero
- C. Crno i Biogradsko jezero
- D. Krupac i Slano jezero

1 bod	
-------	--

Pažljivo pročitajte navedene tvrdnje i odredite da li su tačne (T) ili nijesu (N). Zaokruži (T) ako misliš da je tvrdnja tačna, odnosno (N) ako misliš da je tvrdnja netačana.

5. Odredi se prema tvrdnjama.

- | | | |
|--|---|---|
| A. Sunce je zvijezda. | T | N |
| B. Sateliti su nebeska tijela koja se okreću oko zvijezda. | T | N |
| C. Mjesec je zemljin prirodni satelit. | T | N |

3 boda

6. Odredi se prema datim tvrdnjama.

- | | | |
|--|---|---|
| A. Crna Gora se nalazi u centralnoj Evropi. | T | N |
| B. Azija ima više stanovnika od Evrope. | T | N |
| C. Evropa je po površini veća od Australije. | T | N |
| D. Evropa ima veoma razuđenu obalu. | T | N |

4 boda

7. Odgovori na postavljene tvrdnje:

- | | | |
|---|---|---|
| A. Azija zauzima blizu 1/3 površine Svjetskog okeana. | T | N |
| B. U Aziji su nastali prvo pismo, kalendar i točak. | T | N |
| C. Aziju od Amerike odvaja Gibraltarski moreuz. | T | N |
| D. Aziju zapljuskuju vode dva okeana. | T | N |

4 boda

8. Odredi se prema datim tvrdnjama, u pitanju je privreda Crne Gore:

- | | | |
|--|---|---|
| A. U Crnoj Gori se žitarice gaje na manje od 1% poljoprivredne površine. | T | N |
| B. Govedarstvo je grana stočarstva koja je u porastu. | T | N |
| C. Ribolov je u Crnoj Gori razvijen u skladu sa mogućnostima. | T | N |
| D. Crna Gora spada u šumovitije zemlje Evrope. | T | N |

4 boda

U sljedećim zadacima svakom pojmu u lijevoj koloni možete pridružiti samo jedan pojam iz desne kolone. Na linijama treba uz broj koji označava pojam u lijevoj koloni upisati slovo tačnog odgovora iz desne kolone. Pazite, jedan odgovor na desnoj strani je višak!

9. Poveži.

- | | |
|--------------------|--------------------|
| 1. Sredozemna šuma | A. Četinari |
| 2. Listopadna šuma | B. Bukva |
| 3. Tajga | C. Makija |
| 4. Tundra | D. Patuljasta vrba |
| | E. Stepska trava |

1. _____
2. _____
3. _____
4. _____

4 boda	
--------	--

10. Povežite države sa dominantnom religijom.

- | | |
|-----------|----------------|
| 1. Izrael | A. Hrišćanstvo |
| 2. Laos | B. Judaizam |
| 3. Kanada | C. Budizam |
| 4. Turska | D. Islam |
| | E. Hinduizam |

1. _____
2. _____
3. _____
4. _____

4 boda	
--------	--

11. Navedeni su nacionalni parkovi Crne Gore. Poveži nacionalni park sa naseljem koje mu gravitira:

- | | |
|---------------------|-------------|
| 1. Lovćen | A. Virpazar |
| 2. Biogradska gora | B. Plav |
| 3. Skadarsko jezero | C. Cetinje |
| 4. Durmitor | D. Kolašin |
| 5. Prokletije | E. Nikšić |
| | F. Žabljak |

1. _____
2. _____
3. _____
4. _____
5. _____

5 bodova	
----------	--

12. Navedite nazive kontinenata koji se cijelom svojom površinom prostiru na sjevernoj Zemljinoj polulopti:

1. _____
2. _____
3. _____

3 boda	
--------	--

13. Definiši pojmove.

1. Dine su _____
2. Vrtače _____
3. Jama _____

3 boda	
--------	--

14. Navedi četiri jezera Sjeverne Amerike:

- A. _____
- B. _____
- C. _____
- D. _____

4 boda	
--------	--

15. Navedi četiri rijeke koje protiču kroz područje Podgorice.

- A. _____
- B. _____
- C. _____
- D. _____

4 boda	
--------	--

16. Dopuni rečenicu.

Iseljavanje stanovništva naziva se _____, dok se useljavanje stanovništva naziva _____.

2 boda	
--------	--

17. Dopuni rečenicu:

Na Zemlji postoje dvije polarne oblasti _____ i _____.

2 boda

18. Dopuni rečenicu:

Rijeka Nil nastaje spajanjem _____, i
uliva se u _____.

2 boda

19. Dopuni rečenice:

A. Najduža rijeka u Crnoj Gori je _____.

B. Rijeka Morača pripada _____ slivu.

C. Otoka Plavskog jezera je rijeka _____.

3 boda

20. Dopuni rečenicu.

Jedino brodogradilište u Crnoj Gori nalazi se u _____, dok je naša
najveća luka u _____.

2 boda

21. Poređaj okeane po veličini.

A. Atlanski okean 1. _____

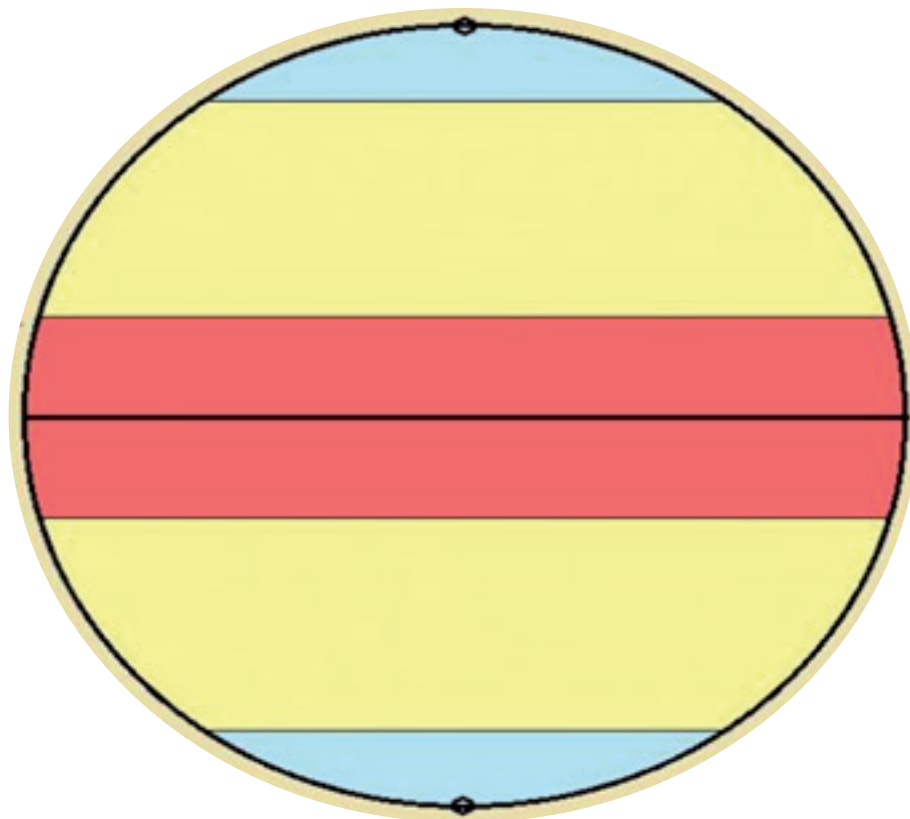
B. Indijski okean 2. _____

C. Sjeverni ledeni okean 3. _____

D. Tih okean 4. _____

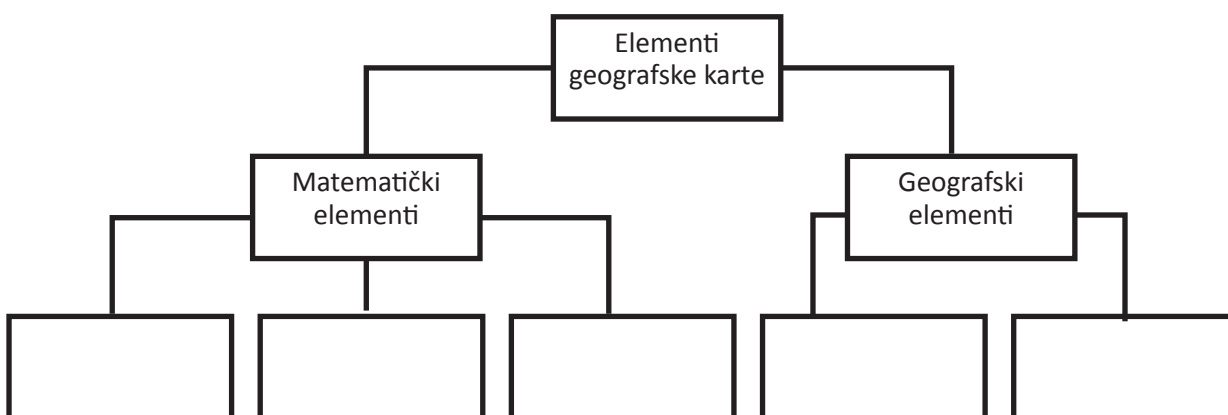
3 boda

22. Na grafički prilog unesi toplotne pojaseve na zemlji:



5 bodova

23. U praznim kvadratima napišite odgovore.



5 bodova

24. Na slici su brojevima su označene četiri evropske države.
Na linijama pored brojeva navesti nazive država.



1. _____ 2. _____

3. _____ 4. _____

4 boda	
--------	--

25. Na slici su označene tri značajnije nizije Evrope.
Na linijama pored brojeva upisati imena tih nizija ?



1. _____
2. _____
3. _____

3 boda

26. Kojim državama pripadaju sledeće fotografije? Na linijama pored brojeva upisati nazive država?

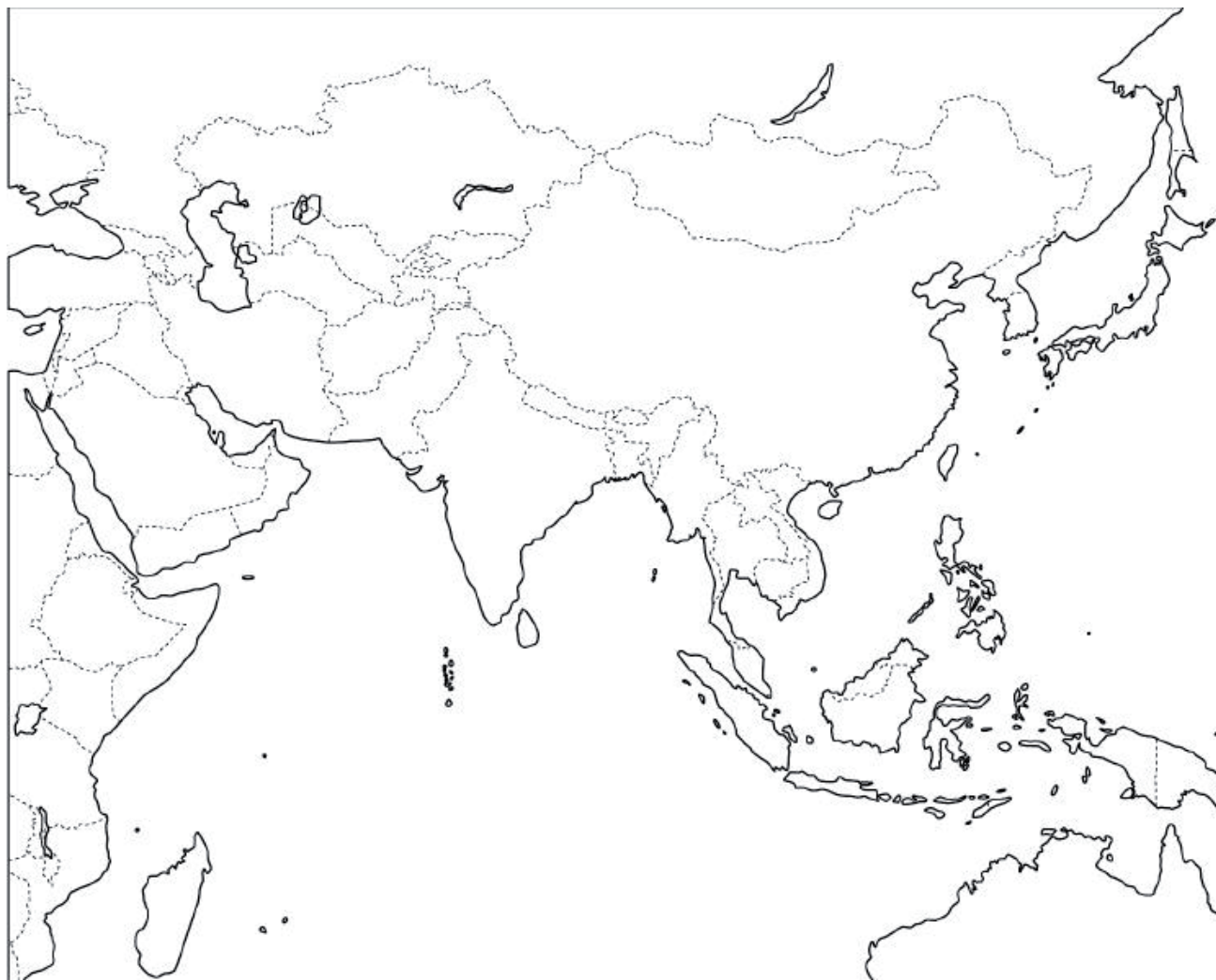


1. _____
2. _____
3. _____
4. _____

4 boda

27. Na nijemu kartu Azije unesi brojevima sljedeće pojmove:

1. Mongolija
2. Tibet
3. Dolina Tigra i Eufrata
4. Žuto more
5. Ostrvo Sumrta
6. Avganistan



6 bodova


28. Na nijemoj karti Crne Gore na odgovarajućem mjestu upiši broj zadatih pojmova:

1. planina Lovćen
2. jezera Krupac i Slano
3. Pivsko jezero
4. planina Prokletije
5. Budva
6. Biogradsko jezero
7. rijeka Ibar



7 bodova

29. Na slici je grb Crne Gore. Pored rednih brojeva, upiši kako se zovu i šta simbolizuju djelovi grba obilježeni strelicama sa brojevima.



1. _____
2. _____
3. _____
4. _____
5. _____
6. _____

6 bodova	
----------	--

POPUNJAVA KOMISIJA ZA OCJENJIVANJE

Ukupan broj osvojenih bodova na testu: _____

Ocjena: _____

KOMISIJA:

GLAVNI OCJENJIVAČ: _____

Dana _____ 2017. godine