



GJEOGRAFI

KONTROLLIMI EKSTERN I DIJES SË NXËNËSVE
NË FUND TË CIKLIT TË TRETË TË SHKOLLËS FILLORE

MAJ, VITIT MËSIMOR 2015/2016

UDHËZIM

Testi nga gjeografia zgjat **70 minuta**.

Numri maksimal i pikëve është **100**. Detyra e cila nuk është zgjidhur saktë **nuk sjell** pikë negative.

Në provim nuk lejohet:

- prezantimi i rrejshëm,
- shikimi i detyrave të provimit para se të jap leje mësime dhënësi kujdestar,
- pengimi i nxënësve tjerë,
- përdorimi i mjeteve të palejuara,
- futja e ushqimit në provim (lejohet vetëm uji),
- mosrespektimi i shenjës për përfundimin e provimit.

Mjetet e lejuara janë: lapsi i thjeshtë dhe goma, lapsi kimik dhe korrektori.
Punimi i nxënësit duhet të shkruhet me laps kimik.

SHIFRA E NXËNËSIT

Në detyrat në vazhdim rrethoni shkronjën para përgjigjes së saktë.

1. Boshti i Tokës është përkulur në drejtëzën horizontale:

- A. 90°
- B. $66^\circ 33'$
- C. $23^\circ 27'$
- B. Nuk është përkulur fare

1 pikë	
--------	--

2. Danimarka sipas rregullimit shtetëror është:

- A. mbretëri
- B. principatë
- C. republikë
- D. kontejë

1 pikë	
--------	--

3. Deti i Vdekur ndodhet në:

- A. Gadishullin Arabik
- B. Gadishullin Ballkanik
- C. Gadishullin Pirinej
- D. Gadishullin Skandinav

1 pikë	
--------	--

4. Cilin vit Mali i Zi e ka miratuar Deklaratën e Shtetit Ekologjik:

- A. 1987
- B. 1989
- C. 1991
- D. 1993

1 pikë	
--------	--

Lexoji me kujdes pohimet në vazhdim dhe përcaktoju ndaj tyre nëse janë të sakta (S) ose të pasakta (P). Rretho (S) nëse mendon se pohimi është i saktë, përkatësisht (P) nëse mendon se pohimi është i pasaktë.

5. Përcaktoju ndaj pohimeve:

- | | | |
|--|---|---|
| A. Shkenca e cila studion trupat qiellor dhe kozmosin quhet astrologjia. | S | P |
| B. Marsi ka 3 satelitë natyror. | S | P |
| C. Pas Diellit ylli më i afërt i planetit tonë është Proksima Kentaura. | S | P |
| D. Kometa e Haleit përafërsisht paraqitet çdo 76 vjet. | S | P |

4 pikë

6. Përcaktoju ndaj pohimeve:

- | | | |
|--|---|---|
| A. Korsika është ishull i cili bën pjesë në kuadër të Francës. | S | P |
| B. Ishujt Azor janë një grup ishujsh që bëjnë pjesë në kuadër të Spanjës. | S | P |
| C. Dardanelet janë një pjesë e detit që lidh Detin Egje me Detin e Mesdheut. | S | P |
| D. Holanda është vend i polderëve. | S | P |

4 pikë

7. Përcaktoju ndaj pohimeve për Afrikën:

- | | | |
|---|---|---|
| A. Në Afrikën e Veriut religjioni dominues është islami. | S | P |
| B. Numri më i madh i afrikanëve ka një përgatitje të lartë shkollore. | S | P |
| C. Bujqësia e Afrikës është shumë e modernizuar. | S | P |
| D. Gjendja ekonomike e Afrikës është pasojë e kolonializmit. | S | P |

4 pikë

8. Përcaktoju ndaj pohimeve:

- | | | |
|--|---|---|
| A. Parku kombëtar „Durmitor“ nuk bën pjesë në territorin e komunës së Plevles. | S | P |
| B. Liqeni i Njelmët afër Nikshiqit është një liqen karstik. | S | P |
| C. Manastiri Ostrog ndodhet në rrugën e drejtimit Podgoricë-Cetinje. | S | P |
| D. Kalimi kufitar Bozhaj është drejt shqipërisë. | S | P |

4 pikë

Në detyrat në vazhdim çdo kuptimi në kolonën e majtë mund t'i bashkoni vetëm një nocion nga kolona e djathtë. Është e domosdoshme që mbi vija pranë numrit që tregon kuptimin në kolonën e majtë të shkruani shkronjën e përgjigjes së saktë nga kolona e djathtë. Keni kujdes, një përgjigje në anën e djathtë është e tepërt.

9. Bashkoji format përkatëse erozive me llojin e erozionit.

- | | |
|------------|---------------------|
| 1. Tombolo | A. Erozioni karstik |
| 2. Lugina | B. Erozioni i lumit |
| 3. Gryka | C. Erozioni Eolask |
| 4. Morena | D. Abrazioni |
| | E. Erozioni glacial |

1. _____
2. _____
3. _____
4. _____

4 pikë	
--------	--

10. Bashkoji shtetet me lumenjtë e tyre.

- | | |
|---------------|----------|
| 1. Spanja | A. Duro |
| 2. Franca | B. Ebro |
| 3. Portugalia | C. Visla |
| 4. Gjermania | D. Laba |
| | E. Rona |

1. _____
2. _____
3. _____
4. _____

4 pikë	
--------	--

11. Bashkoni me shigjeta vendet me religjionin dominues.

- | | |
|------------|----------------|
| 1. Izraeli | A. Budizmi |
| 2. India | B. Islami |
| 3. Kanada | C. Judaizmi |
| 4. Turqia | D. Hinduizmi |
| | E. Krishterimi |

1. _____
2. _____
3. _____
4. _____

4 pikë	
--------	--

12. Bashkoji nocionet fiziko – gjeografike në vazhdim me emërtimet e tyre:

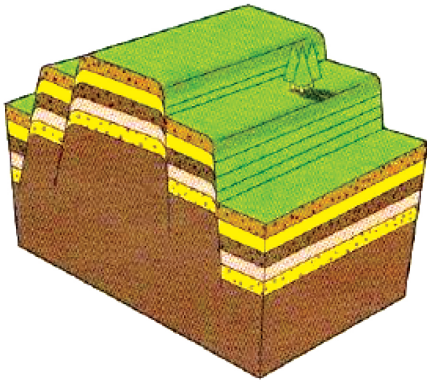
- | | |
|----------------|----------------|
| 1. Orinoko | A. Shkretëtirë |
| 2. Orizaba | B. Rrafshnaltë |
| 3. Tibeti | C. Lum |
| 4. Gobi | D. Ishull |
| 5. Madagaskari | E. Liqe |
| | F. Vullkan |

1. _____
2. _____
3. _____
4. _____
5. _____

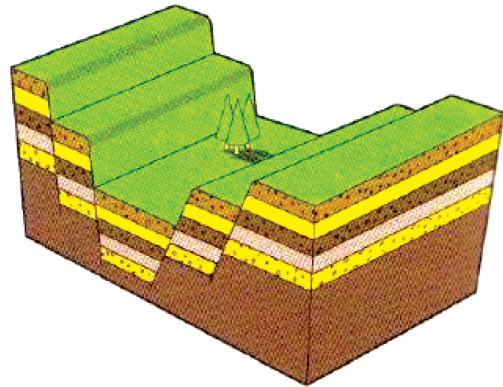
5 pikë

Pyetjet e tipit të hapur

13. Mbi vija nën shtojcë shkruaje emërtimin e çarjes.



1. _____



2. _____

2 pikë

14. Si ndahen malet për nga krijimi?

- A. _____
B. _____
C. _____

3 pikë

15. Numëroji 3 lloje themelore të reve.

- A. _____
B. _____
C. _____

3 pikë

16. Në tabelë janë dhënë vlerat e natalitetit dhe mortalitetit për 3 vende. Llogarite shtimin natyror për çdo vend dhe shkruaje në vendin e lënë bosh në tabelë.

Vendi	Maqedonia	Suedia	Bullgaria
Nataliteti	12,0‰	10,4‰	9,7‰
Mortaliteti	8,7‰	10,4‰	14,3‰
Shtimi natyror			

3 pikë

17. Cilat shteteve u takojnë fotografitë në vazhdim?
Mbi vija pranë numrave të shkruhen emrat e shteteve?



1. _____
2. _____
3. _____
4. _____

4 pikë

18. Plotësoje fjalinë:



Gryka e Gjerdapit është gryka më e gjatë në Evropë. Ajo bashkon ultësirën e

_____ dhe ultësirën e _____. (shkruaji emrat e ultësirave)

2 pikë

19. Cilët janë popujt autokton në Kanada?

A. _____

B. _____

2 pikë

20. Cilat janë dy shtetet e Amerikës së Jugut të cilat nuk kanë dalje në det?

A. _____

B. _____

2 pikë

21. Cilat janë 4 tërësi të relievit në Amerikën e Veriut?

A. _____

B. _____

C. _____

D. _____

4 pikë

22. Në hartën mece të Afrikës me numra shënoji shtetet në vazhdim:

1. Nigeria
2. Kenia
3. Angola
4. Çadi



4 pikë	
--------	--

23. Cilët katër ishuj e përbëjnë Japoninë?

- A. _____
- B. _____
- C. _____
- D. _____

4 pikë

24. Cilët janë tre kanjonet më të njohura në Mal të Zi?

- A. _____
- B. _____
- C. _____

3 pikë

25. Katër tipat kryesor të klimës në Mal të Zi janë:

- A. _____
- B. _____
- C. _____
- D. _____

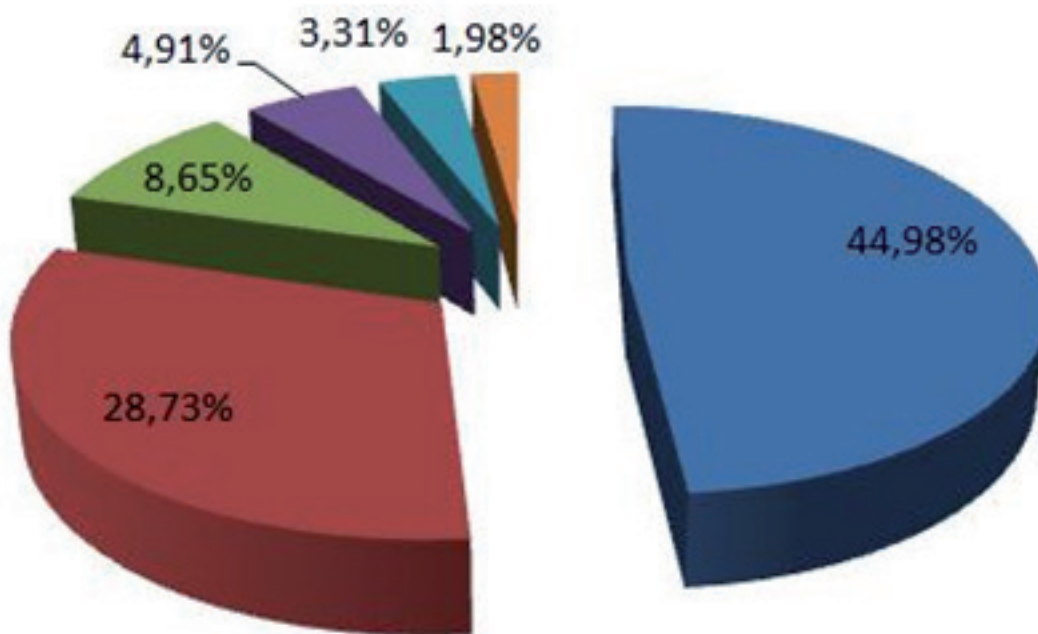
4 pikë

26. Plotësoje fjalinë:

Mali i Zi kufizohet me _____ shtete. Kufiri më i gjatë është me _____, kurse më i shkurti me _____.

3 pikë

27. Mbi vijë para grupit etnik në Mal të Zi shkruaji vlerat nga grafiku.



- A. _____ Boshnjakët
- B. _____ Malazezët
- C. _____ Serbët
- D. _____ Shqiptarët
- E. _____ Myslimanët
- F. _____ Të tjerët

6 pikë

28. Shënoje emrin e qytetit ku janë të pranishme gjetjet minerale në vazhdim:

- A. Ligniti _____
- B. Qymyri i Zi _____
- C. Boksiti _____

3 pikë

29. Në hartën memece të Malit të Zi në vendin përkatës shkruaje numrin e nocionit të dhënë:

1. Mali Orjen
2. Liqeni i Plavës
3. Ultësira e lumit Buna
4. Pika e kalimit kufitar Shqepan Pole
5. Komuna me sipërfaqe më të madhe
6. Qendra e turizmit shëndetësor
7. Manastiri Ostrog
8. Xhamia e Hysein-Pashës



8 pikë

30. Mbi vija më poshtë shkruaji emrat e qyteteve që janë paraqitur me fotografitë e dhëna.



A. _____



B. _____



C. _____

3 pikë	
--------	--

E PLOTËSON KOMISIONI PËR VLERËSIM

Numri i përgjithshëm i pikëve të fituara në test: _____

Nota: _____

KOMISIONI:

VLERËSUESI KRYESOR: _____

Data _____ 2016