



GEOGRAFIJA

EKSTERNA PROVJERA ZNANJA UČENIKA
NA KRAJU III CIKLUSA OSNOVNE ŠKOLE

MAJ, ŠKOLSKE 2015/2016. GODINE

UPUTSTVO

Test iz geografije traje 70 minuta.

Maksimalan broj bodova je **100**. Netačno riješen ili neurađen zadatak **ne donosi** negativne poene.

Na ispitu nije dozvoljeno sljedeće ponašanje:

- lažno predstavljanje,
- otvaranje ispitnih zadataka prije dozvoljenog vremena,
- ometanje drugih učenika,
- korišćenje nedozvoljenog pribora,
- unošenje jela na ispit (dozvoljena je samo voda),
- nepoštovanje znaka za završetak ispita.

Dozvoljen pribor je: grafitna olovka i gumica, hemijska olovka i korektor. **Učenikov rad mora biti napisan hemijskom olovkom.**

ŠIFRA UČENIKA

U sljedećim zadacima zaokružite slovo ispred tačnog odgovora.

1. Zemljina osa nagnuta je na horizontalnu ravan

- A. 90°
- B. 66°33'
- C. 23°27'
- B. Uopšte nije nagnuta

1 bod	
-------	--

2. Danska je po državnom uređenju:

- A. kraljevina
- B. kneževina
- C. republika
- D. grofovija

1 bod	
-------	--

3. Mrtvo more se nalazi na:

- A. Arabijskom poluostrvu
- B. Balkanskom poluostrvu
- C. Pirinejskom poluostrvu
- D. Skandinavskom poluostrvu

1 bod	
-------	--

4. Koje godine je Crne Gora usvojila deklaraciju o Ekološkoj državi?

- A. 1987.
- B. 1989.
- C. 1991.
- D. 1993.

1 bod	
-------	--

Pažljivo pročitajte navedene tvrdnje i odredite da li su tačne (T) ili nijesu (N). Zaokruži (T) ako misliš da je tvrdnja tačna, odnosno (N) ako misliš da je tvrdnja netačana.

5. Odredi se prema tvrdnjama.

- | | | |
|---|---|---|
| A. Nauka koja proučava nebeska tijela i kosmos naziva se astrologija. | T | N |
| B. Mars ima 3 prirodna satelita. | T | N |
| C. Posle Sunca najbliža zvijezda našoj planeti je Proksima Kentaura. | T | N |
| D. Halejeva kometa se približno pojavljuje svake 76. godine. | T | N |

4 boda

6. Odredi se prema tvrdnjama.

- | | | |
|---|---|---|
| A. Korzika je ostrvo koje se nalazi u sastavu Francuske. | T | N |
| B. Azorska ostrva su grupa ostrva koja se nalaze u sastavu Španije. | T | N |
| C. Dardaneli je moreuz koji povezuje Egejsko i Sredozemno more. | T | N |
| D. Holandija je zemlja poldera. | T | N |

4 boda

7. Odredi se prema tvrdnjama.

- | | | |
|---|---|---|
| A. U Sjevernoj Africi dominantna vjera je islam | T | N |
| B. Veliki broj Afrikanaca je visokoškoloivan | T | N |
| C. Afrička poljoprivreda je dosta modernizovana | T | N |
| D. Privredno stanje Afrike je posledica kolonijalizma | T | N |

4 boda

8. Odredi se prema tvrdnjama.

- | | | |
|---|---|---|
| A. Nacionalni park „Durmitor“ ne pripada teritoriji opštine Pljevlja. | T | N |
| B. Slano jezero kod Nikšića je kraško jezero. | T | N |
| C. Manastir Ostrog se nalazi na putnom pravcu Podgorica-Cetinje. | T | N |
| D. Granični prelaz Božaj je prema Albaniji. | T | N |

4 boda

U sljedećim zadacima svakom pojmu u lijevoj koloni možete pridružiti samo jedan pojam iz desne kolone. Na linijama treba uz broj koji označava pojam u lijevoj koloni upisati slovo tačnog odgovora iz desne kolone. Pazite, jedan odgovor na desnoj strani je višak!

9. Poveži odgovaraću erozivni oblik sa vrstom erozije.

- | | |
|------------|-----------------------|
| 1. Tombolo | A. Kraška erozija |
| 2. Vrtača | B. Riječna erozija |
| 3. Klisura | C. Eolaska erozija |
| 4. Morena | D. Abrazija |
| | E. Glacijalna erozija |

1. _____
2. _____
3. _____
4. _____

4 boda	
--------	--

10. Poveži države sa njihovim rijekama.

- | | |
|--------------|----------|
| 1. Španija | A. Duro |
| 2. Francuska | B. Ebro |
| 3. Portugal | C. Visla |
| 4. Njemačka | D. Laba |
| | E. Rona |

1. _____
2. _____
3. _____
4. _____

4 boda	
--------	--

11. Strelicama spojite države sa dominantnom religijom.

- | | |
|-----------|----------------|
| 1. Izrael | A. Budizam |
| 2. Indija | B. Islam |
| 3. Kanada | C. Judaizam |
| 4. Turska | D. Hinduizam |
| | E. Hrišćanstvo |

1. _____
2. _____
3. _____
4. _____

4 boda	
--------	--

12. Strelicama spojite države sa dominantnom religijom.

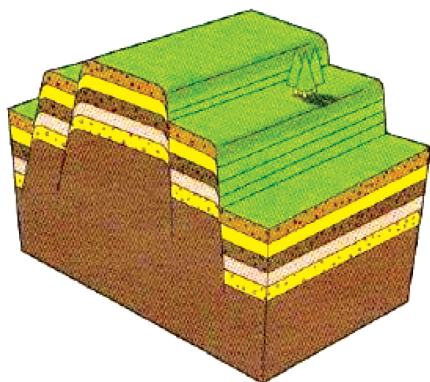
- | | |
|---------------|--------------|
| 1. Orinoko | A. Pustinja |
| 2. Orizaba | B. Visoravan |
| 3. Tibet | C. Rijeka |
| 4. Gobi | D. Ostrvo |
| 5. Madagaskar | E. Jezero |
| | F. Vulkan |

1. _____
2. _____
3. _____
4. _____
5. _____

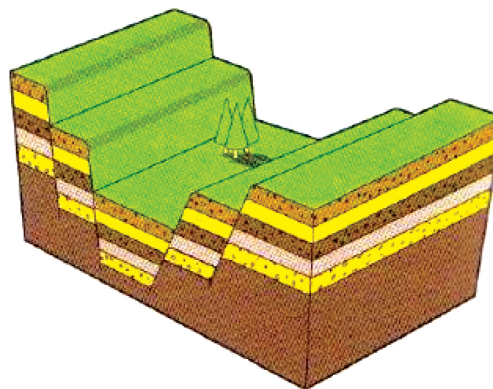
5 bodova

Pitanja otvorenog tipa.

13. Na linijama ispod priloga napiši naziv rasjeda



1. _____



2. _____

2 boda

14. Kako se dijele planine prema postanku?

- A. _____
B. _____
C. _____

3 boda

15. Nabroj 3 osnovne vrste oblaka.

- A. _____
B. _____
C. _____

3 boda

16. U tabeli su date vrijednosti nataliteta i mortaliteta za 3 zemlje. Izračunaj prirodni priraštaj za svaku zemlju i upiši u prazna mjesta tabele.

Zemlja	Makedonija	Švedska	Bugarska
Natalitet	12,0‰	10,4‰	9,7‰
Mortalitet	8,7‰	10,4‰	14,3‰
Prirodni priraštaj			

3 boda

17. Kojim državama pripadaju sledeće fotografije? Na linijama pored brojeva upisati nazive država?



4 boda

18. Dopuni rečenicu:



Đerdapska klisura je najduža klisura u Evropi. Ona povezuje _____
i _____ niziju. (upisati nazive nizija)

2 boda

19. Koji narodi su starosjedioci Kanade?

A. _____

B. _____

2 boda

20. Koje dvije države Južne Amerike ne izlaze na more?

A. _____

B. _____

2 boda

21. Koje su 4 reljefne cjeline u Sjevernoj Americi?

A. _____

B. _____

C. _____

D. _____

4 boda

22. Na nijemu kartu Afrike unesi brojevima sljedeće države:

1. Nigerija
2. Kenija
3. Angola
4. Čad



4 boda	
--------	--

23. Koja 4 velika ostrva čine Japan?

- A. _____
- B. _____
- C. _____
- D. _____

4 boda	
--------	--

24. Koja su tri najpoznatija kanjona u Crnoj Gori?

- A. _____
- B. _____
- C. _____

3 boda	
--------	--

25. Četiri glavna tipa klime u Crnoj Gori su?

- A. _____
- B. _____
- C. _____
- D. _____

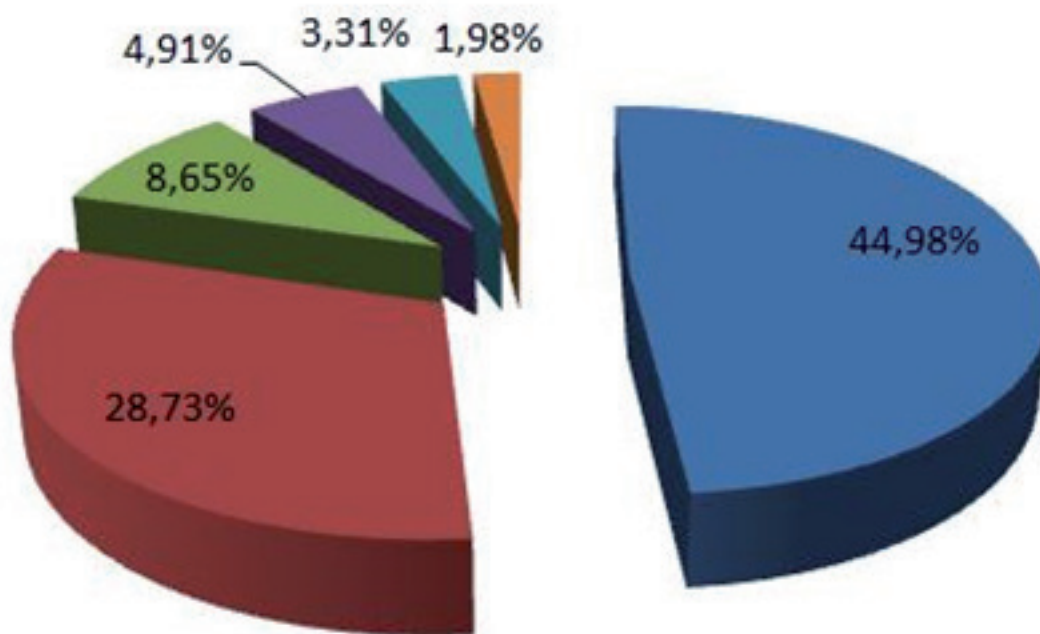
4 boda	
--------	--

26. Dopuni rečenicu:

Crna Gora se graniči sa ____ država. Najduža granica je sa _____
a najkraća sa _____.

3 boda	
--------	--

27. Na linije ispred etničke grupe u Crnoj Gori upiši vrijednost sa grafikona.



- A. _____ Bošnjaci
B. _____ Crnogorci
C. _____ Srbi
D. _____ Albanci
E. _____ Muslimani
F. _____ Ostali

6 bodova

28. Dopiši ime grada gdje su zastupjena sledeća rudna nalazišta:

- A. Lignit _____
B. Mrki Ugalj _____
C. Boksit _____

3 boda

29. Na nijemoj karti Crne Gore na odgovarajućem mjestu upiši broj zadatih pojmova:

1. Planina Orjen
2. Plavsko jezero
3. Dolina rijeke Bojane
4. Granični prelaz Šćepan polje
5. Opština sa najvećom površinom
6. Centar zdravstvenog turizma
7. Manastir Ostrog
8. Husein-Pašina džamija



8 bodova	
----------	--

30. Na linije ispod upiši imena gradova koji su predstavljeni zadatim fotografijama.



A. _____



B. _____



C. _____

3 boda	
--------	--

POPUNJAVA KOMISIJA ZA OCJENJIVANJE

Ukupan broj osvojenih bodova na testu: _____

Ocjena: _____

KOMISIJA:

GLAVNI OCJENJIVAČ: _____

Dana _____ 2016. godine